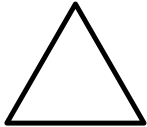


Resolução da atividade principal - MAT4_19GEO07

Vamos jogar Bingo?

O aluno deve fazer a correspondência das características de polígonos e não polígonos apresentadas pelo professor com as imagens apresentadas nas cartelas.

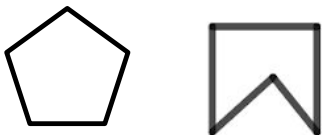
- Polígono formado por três lados e três ângulos.



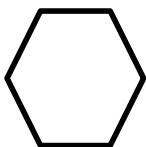
- Polígono formado por quatro lados e quatro ângulos.



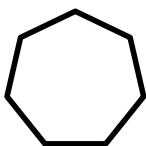
- Polígono formado por cinco lados e cinco ângulos.



- Polígono formado por seis lados e seis ângulos.




- Polígono formado por sete lados e sete ângulos.




- Figura plana aberta formada por segmentos de reta.



- Figura plana fechada formada por segmentos de reta que se cruzam.



- Figura plana fechada formada por linha curva.



- Figura plana fechada formada por linha curva e segmentos de reta.

