


Observe a numeração das casas de um condomínio:




Sabendo que a numeração das casas segue uma sequência constante, responda às seguintes perguntas:

- Qual é a numeração da segunda casa?
- Seguindo essa sequência, quantas casas precisa para ser a de número 33 000?

---

Observe a numeração das casas de um condomínio:




Sabendo que a numeração das casas segue uma sequência constante, responda às seguintes perguntas:

- Qual é a numeração da segunda casa?
- Seguindo essa sequência, quantas casas precisa para ser a de número 33 000?

---

Observe a numeração das casas de um condomínio:



Sabendo que a numeração das casas segue uma sequência constante, responda às seguintes perguntas:

- Qual é a numeração da segunda casa?
- Seguindo essa sequência, quantas casas precisa para ser a de número 33 000?