


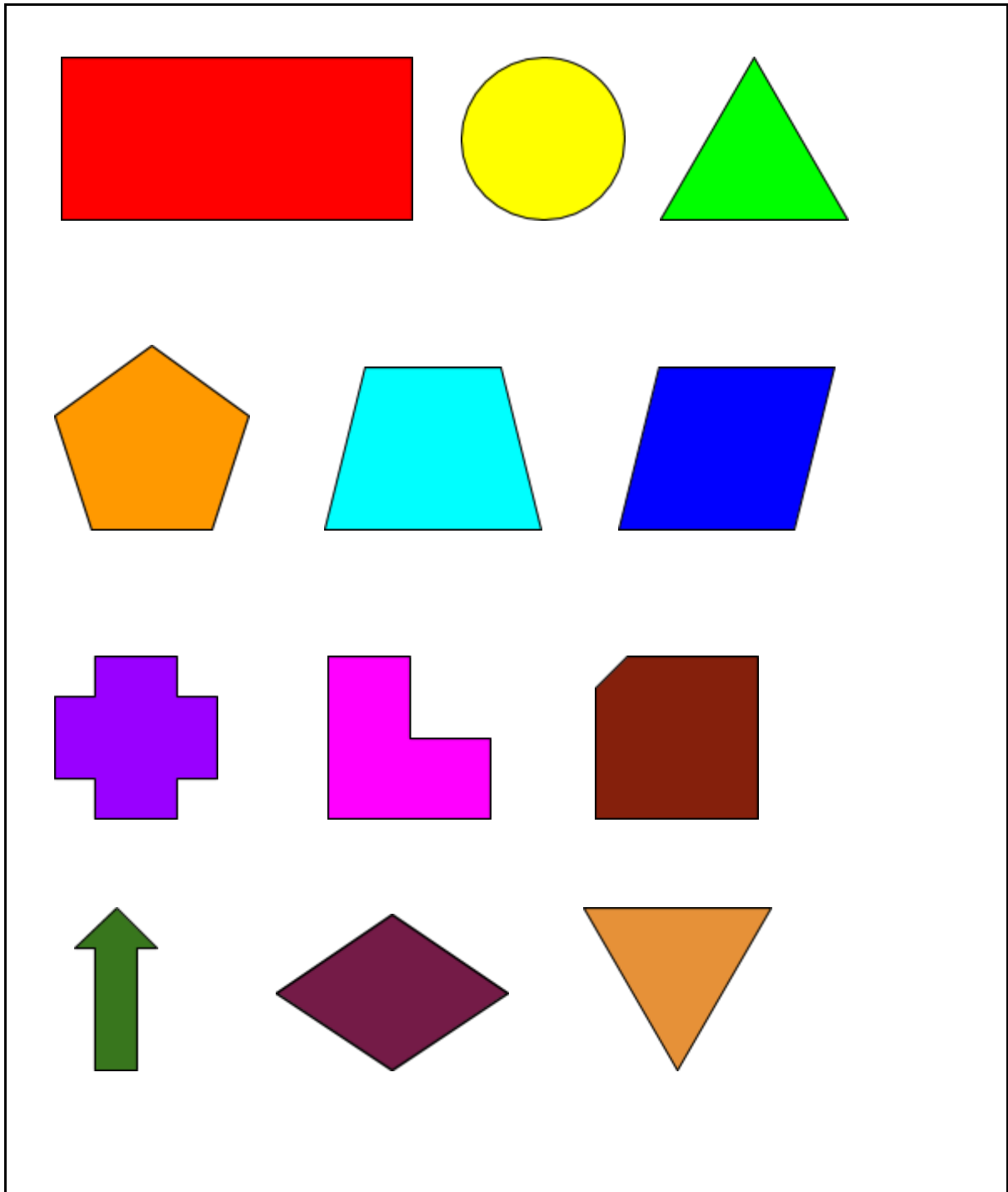
Atividade complementar MAT4_19GEO01 /Reconhecendo polígonos

Qual(is) das imagens a seguir lembram a forma de um polígono?



Atividade complementar 2


Observe o quadro a seguir. Qual figura é a “intrometida”? Explique por quê.



Atividade complementar 3: Desafio


Na segunda-feira, Maria saiu para passear pela manhã e só voltou à tarde. Veja o trajeto que Maria fez e, com o auxílio de uma régua, trace o caminho que ela fez.

- 1- Maria saiu de casa e foi até o ponto de ônibus.
- 2- Maria pegou o ônibus e foi até a praça encontrar com sua prima Manuela.
- 3- As duas foram até a papelaria comprar um caderno.
- 4- Maria voltou para casa para estudar.



Agora, como auxílio de uma régua, trace o caminho que Maria fez na terça-feira.

- 1- Maria saiu de casa e foi direto para a praça encontrar com a sua prima Manuela.
- 2- As duas foram andando até o ponto de ônibus.
- 3- O ônibus pegou um caminho que foi direto para a papelaria.
- 4- As meninas saíram na papelaria para comprar um caderno.
- 5- Maria voltou para a casa para estudar.



Qual dos caminhos representa um polígono? Explique.