
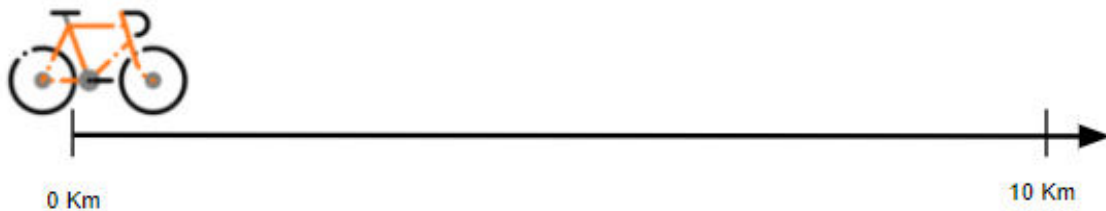



Em uma corrida de bicicleta, a cada 2,5 km havia uma parada para os ciclistas beberem água e calibrarem seus pneus. A corrida era de dez quilômetros. Marque, na reta numérica abaixo, os pontos em que os ciclistas pararam.



Em uma corrida de bicicleta, a cada 2,5 km havia uma parada para os ciclistas beberem água e calibrarem seus pneus. A corrida era de dez quilômetros. Marque, na reta numérica abaixo, os pontos em que os ciclistas pararam.



Em uma corrida de bicicleta, a cada 2,5 km havia uma parada para os ciclistas beberem água e calibrarem seus pneus. A corrida era de dez quilômetros. Marque, na reta numérica abaixo, os pontos em que os ciclistas pararam.



Em uma corrida de bicicleta, a cada 2,5 km havia uma parada para os ciclistas beberem água e calibrarem seus pneus. A corrida era de dez quilômetros. Marque, na reta numérica abaixo, os pontos em que os ciclistas pararam.

