

Considere a sequência das 8 figuras abaixo e seus conhecimentos sobre características dos polígonos para preencher o quadro, devidamente, apresentando justificativas para as suas respostas, positivas ou negativas.

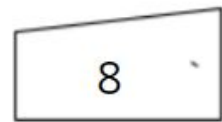
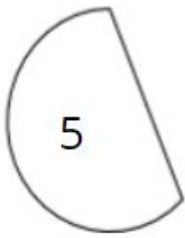
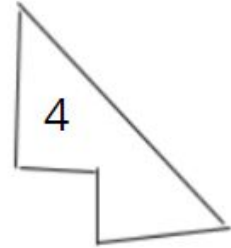
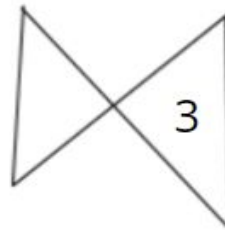
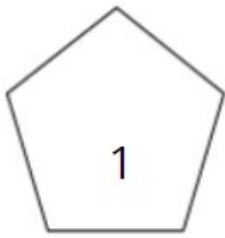


Figura	É polígono?	Por quê? Justifique.
1ª		
2ª		
3ª		
4ª		
5ª		
6ª		
7ª		
8ª		