




ATIVIDADES COMPLEMENTARES - MAT4_18GEO01

1. Identifique o tipo de ângulo apontado em cada hora dos relógios abaixo:







2. Escreva em seu caderno, pelo menos 3 exemplos de objetos em que encontramos ângulos:

- retos:
- agudos:
- obtusos:

3. Desafio!

Pense rápido e responda:

- Quando o relógio marca 9 horas em ponto, temos um ângulo?
- Quando o relógio marca 3 horas e 20 minutos, temos um ângulo?
- Quando o relógio marca 2 horas e 50 minutos, temos um ângulo?
- Quando o relógio marca 3 horas em ponto, temos um ângulo?
- Quando o relógio marca 3 horas e 40 minutos, temos um ângulo?