

REGRAS PARA A ATIVIDADE COM OS VAGÕES: **“DESCOBRINDO O NÚMERO”**

- 1) FIQUEM EM DUPLAS.
 - 2) FORME UM NÚMERO DE QUATRO ORDENS USANDO OS VAGÕES.
 - 3) PEÇA QUE O COLEGA COMPONHA O NÚMERO QUE VOCÊ FORMOU E O ESCREVA COM ALGARISMOS NO CADERNO.
 - 4) AGORA É A VEZ DO COLEGA FORMAR O NÚMERO E VOCÊ ESCREVER NO SEU CADERNO.
-

REGRAS PARA A ATIVIDADE COM OS VAGÕES: **“DESCOBRINDO O NÚMERO”**

- 1) FIQUEM EM DUPLAS.
 - 2) FORME UM NÚMERO DE QUATRO ORDENS USANDO OS VAGÕES.
 - 3) PEÇA QUE O COLEGA COMPONHA O NÚMERO QUE VOCÊ FORMOU E O ESCREVA COM ALGARISMOS NO CADERNO.
 - 4) AGORA É A VEZ DO COLEGA FORMAR O NÚMERO E VOCÊ ESCREVER NO SEU CADERNO.
-

REGRAS PARA A ATIVIDADE COM OS VAGÕES: **“DESCOBRINDO O NÚMERO”**

- 1) FIQUEM EM DUPLAS.
 - 2) FORME UM NÚMERO DE QUATRO ORDENS USANDO OS VAGÕES.
 - 3) PEÇA QUE O COLEGA COMPONHA O NÚMERO QUE VOCÊ FORMOU E O ESCREVA COM ALGARISMOS NO CADERNO.
 - 4) AGORA É A VEZ DO COLEGA FORMAR O NÚMERO E VOCÊ ESCREVER NO SEU CADERNO.
-

REGRAS PARA A ATIVIDADE COM OS VAGÕES: **“DESCOBRINDO O NÚMERO”**

- 1) FIQUEM EM DUPLAS.
 - 2) FORME UM NÚMERO DE QUATRO ORDENS USANDO OS VAGÕES.
 - 3) PEÇA QUE O COLEGA COMPONHA O NÚMERO QUE VOCÊ FORMOU E O ESCREVA COM ALGARISMOS NO CADERNO.
 - 4) AGORA É A VEZ DO COLEGA FORMAR O NÚMERO E VOCÊ ESCREVER NO SEU CADERNO.
-

REGRAS PARA A ATIVIDADE COM OS VAGÕES: **“DESCOBRINDO O NÚMERO”**

- 1) FIQUEM EM DUPLAS.
- 2) FORME UM NÚMERO DE QUATRO ORDENS USANDO OS VAGÕES.
- 3) PEÇA QUE O COLEGA COMPONHA O NÚMERO QUE VOCÊ FORMOU E O ESCREVA COM ALGARISMOS NO CADERNO.
- 4) AGORA É A VEZ DO COLEGA FORMAR O NÚMERO E VOCÊ ESCREVER NO SEU CADERNO.

REGRAS PARA A ATIVIDADE COM OS VAGÕES: **“DESMONTANDO O NÚMERO”**

- 1) FIQUEM EM DUPLAS.
 - 2) PEÇA QUE O COLEGA ESCREVA COM ALGARISMOS UM NÚMERO COM QUATRO ORDENS.
 - 3) USE OS VAGÕES PARA DECOMPOR O NÚMERO QUE O COLEGA ESCREVEU.
 - 4) ESCREVA NO CADERNO O NÚMERO COMPOSTO E DECOMPOSTO QUE VOCÊS FORMARAM.
 - 5) REPITA A ATIVIDADE MAS AGORA É VOCÊ QUE ESCREVERÁ O NÚMERO PARA SEU COLEGA 'DESMONTAR'.
-

REGRAS PARA A ATIVIDADE COM OS VAGÕES: **“DESMONTANDO O NÚMERO”**

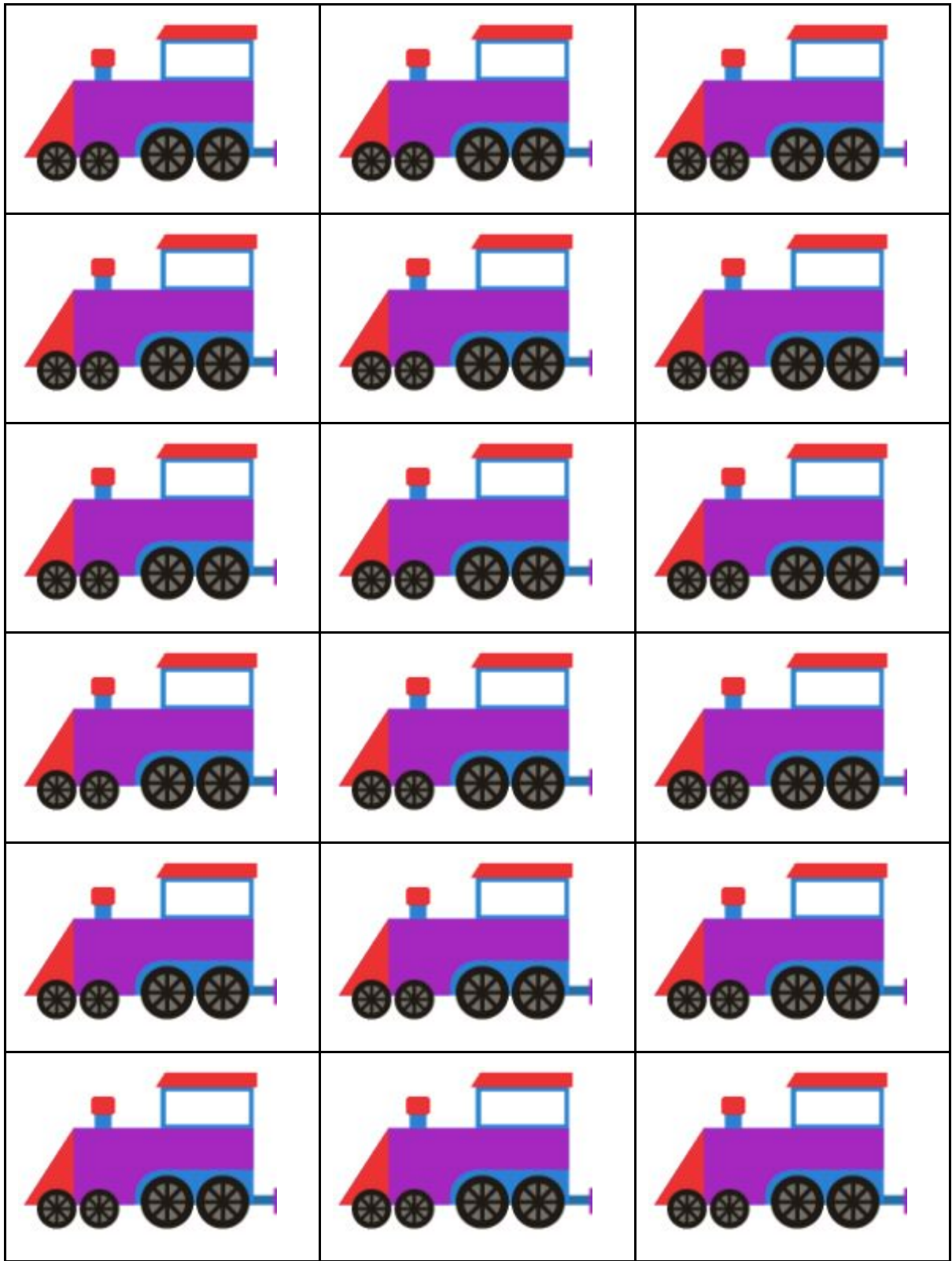
- 1) FIQUEM EM DUPLAS.
 - 2) PEÇA QUE O COLEGA ESCREVA COM ALGARISMOS UM NÚMERO COM QUATRO ORDENS.
 - 3) USE OS VAGÕES PARA DECOMPOR O NÚMERO QUE O COLEGA ESCREVEU.
 - 4) ESCREVA NO CADERNO O NÚMERO COMPOSTO E DECOMPOSTO QUE VOCÊS FORMARAM.
 - 5) REPITA A ATIVIDADE MAS AGORA É VOCÊ QUE ESCREVERÁ O NÚMERO PARA SEU COLEGA 'DESMONTAR'.
-



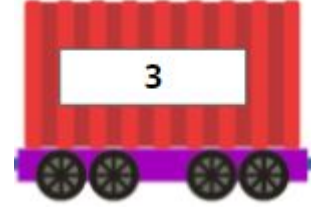


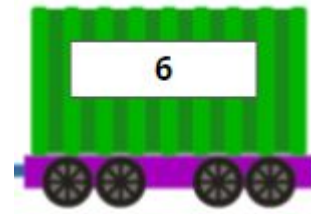


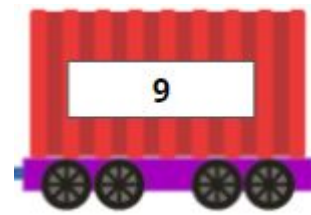
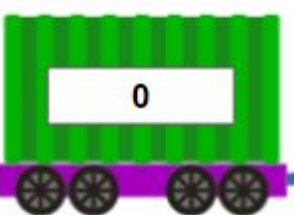
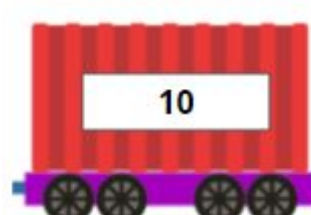


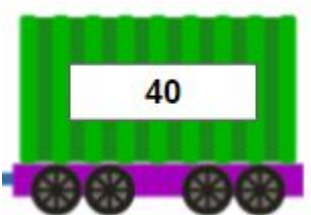




REGRAS PARA A ATIVIDADE COM OS VAGÕES: **“DESMONTANDO O NÚMERO”**


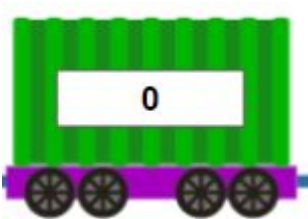








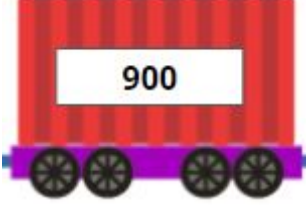
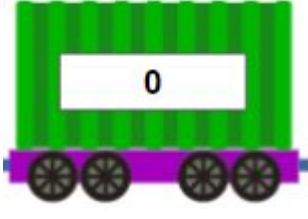






- 1) FIQUEM EM DUPLAS.
 - 2) PEÇA QUE O COLEGA ESCREVA COM ALGARISMOS UM NÚMERO COM QUATRO ORDENS.
 - 3) USE OS VAGÕES PARA DECOMPOR O NÚMERO QUE O COLEGA ESCREVEU.
 - 4) ESCREVA NO CADERNO O NÚMERO COMPOSTO E DECOMPOSTO QUE VOCÊS FORMARAM.
 - 5) REPITA A ATIVIDADE MAS AGORA É VOCÊ QUE ESCREVERÁ O NÚMERO PARA SEU COLEGA 'DESMONTAR'.
-





REGRAS PARA A ATIVIDADE COM OS VAGÕES: **“DESMONTANDO O NÚMERO”**

- 1) FIQUEM EM DUPLAS.
- 2) PEÇA QUE O COLEGA ESCREVA COM ALGARISMOS UM NÚMERO COM QUATRO ORDENS.
- 3) USE OS VAGÕES PARA DECOMPOR O NÚMERO QUE O COLEGA ESCREVEU.
- 4) ESCREVA NO CADERNO O NÚMERO COMPOSTO E DECOMPOSTO QUE VOCÊS FORMARAM.
- 5) REPITA A ATIVIDADE MAS AGORA É VOCÊ QUE ESCREVERÁ O NÚMERO PARA SEU COLEGA 'DESMONTAR'.



 <p>1</p>	 <p>2</p>	 <p>3</p>
 <p>4</p>	 <p>5</p>	 <p>6</p>
 <p>7</p>	 <p>8</p>	 <p>9</p>
 <p>0</p>	 <p>10</p>	 <p>20</p>
 <p>30</p>	 <p>40</p>	 <p>50</p>
 <p>60</p>	 <p>70</p>	 <p>80</p>

 <p>90</p>	 <p>0</p>	 <p>100</p>
 <p>200</p>	 <p>300</p>	 <p>400</p>
 <p>500</p>	 <p>600</p>	 <p>700</p>
 <p>800</p>	 <p>900</p>	 <p>0</p>
 <p>1 000</p>	 <p>2 000</p>	 <p>3 000</p>
 <p>4 000</p>	 <p>5 000</p>	 <p>6 000</p>

 <p>7 000</p>	 <p>8 000</p>	 <p>9 000</p>
 <p>0</p>		