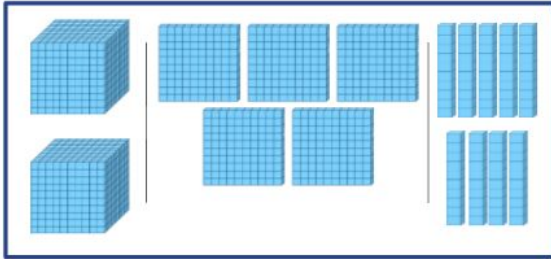


OBSERVE A REPRESENTAÇÃO FEITA COM O MATERIAL DOURADO E FAÇA A COMPOSIÇÃO DO NÚMERO EM ALGARISMO E DEPOIS FAÇA A DECOMPOSIÇÃO EM UNIDADES.



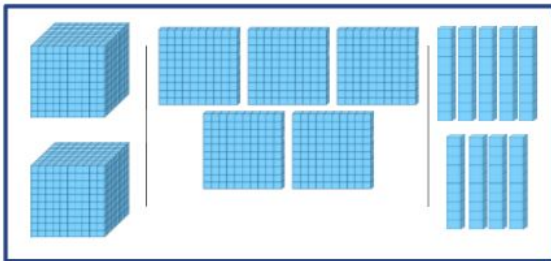
- O NÚMERO (EM ALGARISMOS) REPRESENTADO NO QUADRO É:

_____.

- A DECOMPOSIÇÃO DESSE NÚMERO EM UNIDADES É:

___ + ___ + ___ + ___

OBSERVE A REPRESENTAÇÃO FEITA COM O MATERIAL DOURADO E FAÇA A COMPOSIÇÃO DO NÚMERO EM ALGARISMO E DEPOIS FAÇA A DECOMPOSIÇÃO EM UNIDADES.



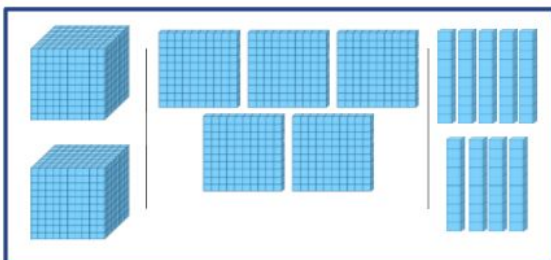
- O NÚMERO (EM ALGARISMOS) REPRESENTADO NO QUADRO É:

_____.

- A DECOMPOSIÇÃO DESSE NÚMERO EM UNIDADES É:

___ + ___ + ___ + ___

OBSERVE A REPRESENTAÇÃO FEITA COM O MATERIAL DOURADO E FAÇA A COMPOSIÇÃO DO NÚMERO EM ALGARISMO E DEPOIS FAÇA A DECOMPOSIÇÃO EM UNIDADES.



- O NÚMERO (EM ALGARISMOS) REPRESENTADO NO QUADRO É:

_____.

- A DECOMPOSIÇÃO DESSE NÚMERO EM UNIDADES É:

___ + ___ + ___ + ___