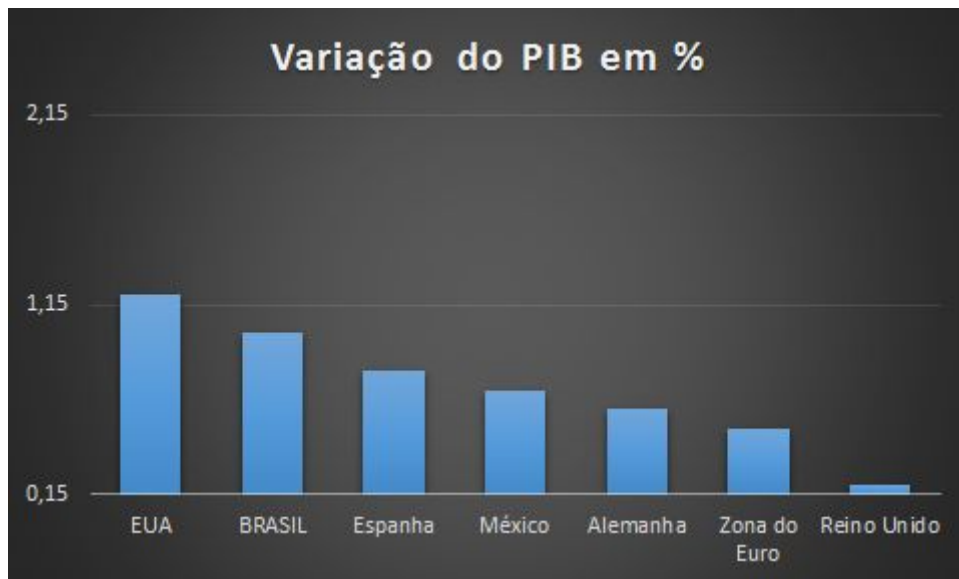


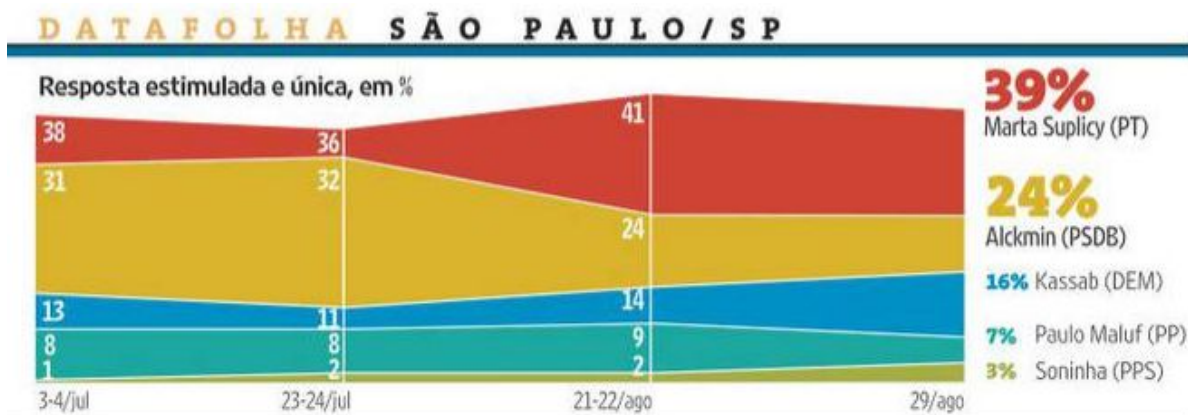
1 - Retome o gráfico que mostra o percentual de inflação apresentado em aula e refaça-o de forma correta.

2 - O jornal de uma cidade colocou numa manchete o gráfico referente ao PIB de alguns países no primeiro trimestre de 2017, como mostra a figura abaixo:



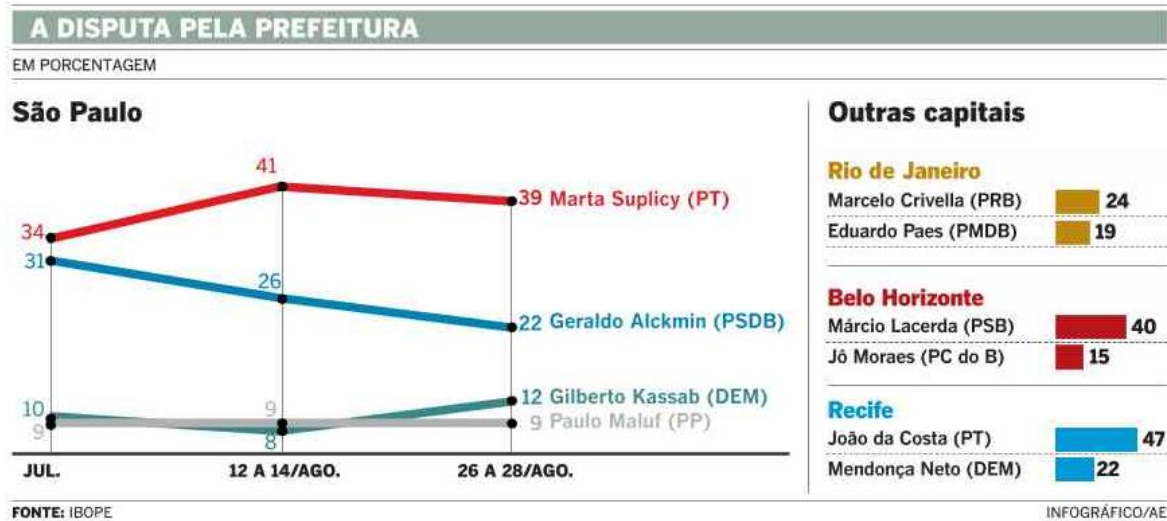
Analisando o gráfico, podemos afirmar que o Reino Unido teve um crescimento pequeno em relação aos outros países? Por quê?

3 - [Desafio] Em 2008, ano eleitoral para prefeituras, a “Folha de São Paulo” divulgou o seguinte gráfico de intenção de votos entre os candidatos do ano:



Fonte: Jornal Folha de S. Paulo de 30/08/2008.

Já o jornal "O estado de São Paulo" divulgou o seguinte gráfico no mesmo dia:



Fonte: Jornal O Estado de S. Paulo de 30/08/2008.

Comparando ambos os gráficos, que conclusões podemos tirar? Justifique