






1. AJUDE ROBERTA A DESCOBRIR QUANTAS HORAS FALTAM PARA A SUA FESTA DE ANIVERSÁRIO.





MINHA FESTA ESTÁ MARCADA PARA ÀS 15 HORAS. AGORA, SÃO 9 HORAS. QUANTAS HORAS AINDA FALTAM PARA A FESTA?

2. MARIANA E BRUNO ESTÃO COLECIONANDO TAMPINHAS. QUANTAS TAMPINHAS A MAIS MARIANA PRECISA TER PARA FICAR COM A MESMA QUANTIDADE QUE BRUNO?

3, (Desafio) OBSERVE AS FRUTAS COMPRADAS POR CAUÊ.





- AGORA, RESPONDA:

- CAUÊ COMPROU MAIS MAÇÃS OU MAIS PERAS?
- QUANTAS PERAS A MAIS ELE PRECISARIA COMPRAR PARA TER A MESMA QUANTIDADE DE PERAS E MAÇÃS?
- UMA RECEITA DE TORTA DE MAÇÃS PEDE NOS INGREDIENTES, 12 MAÇÃS. SE CAUÊ RESOLVER FAZÊ-LA, QUANTAS MAÇÃS IRÃO SOBRAR?
- SE CAUÊ RESOLVER SUBSTITUIR AS MAÇÃS POR PERAS NA REALIZAÇÃO DA RECEITA, QUANTAS PERAS ELE TERÁ QUE COMPRAR PARA FAZÊ-LA?