


## ATIVIDADES COMPLEMENTARES MAT2\_02NUM05

OBSERVE OS VALORES DE CADA PEÇA.



= 1 CENTENA = 100 UNIDADES



= 1 UNIDADE



= 1 DEZENA = 10 UNIDADES

01. VEJA A REPRESENTAÇÃO A SEGUIR E DESCUBRA O NÚMERO FORMADO.



**A) NÚMERO:**

ESCRITO COM ALGARISMOS: \_\_\_\_\_

ESCRITO COM PALAVRAS: \_\_\_\_\_

**B) NÚMERO:**

A) COM ALGARISMO: \_\_\_\_\_

B) POR EXTENSO: \_\_\_\_\_

C) OUTRA FORMA DE REPRESENTAR O VALOR (COM FIGURAS EQUIVALENTES):

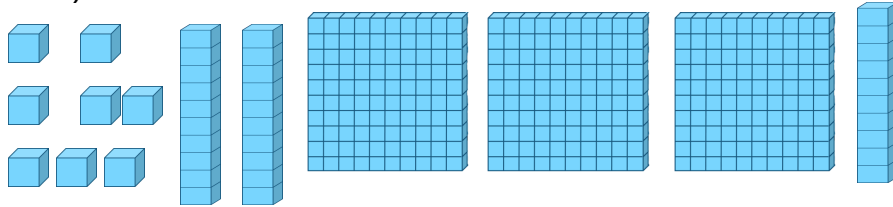
02. AGORA ESCREVA O NÚMERO COM ALGARISMOS E REPRESENTA COM AS FIGURAS:

- A) SETECENTOS E QUATRO: \_\_\_\_\_  
B) QUINHENTOS E NOVE: \_\_\_\_\_

DESAFIO:

VEJA COMO MÔNICA REPRESENTOU OS VALORES. COMENTE SE ELA FEZ CORRETAMENTE E JUSTIFIQUE SUA RESPOSTA.

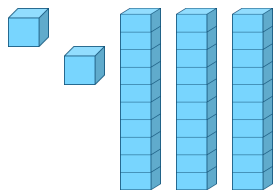
A) 328 UNIDADES:



---

---

B) 32 DEZENAS:



---

---