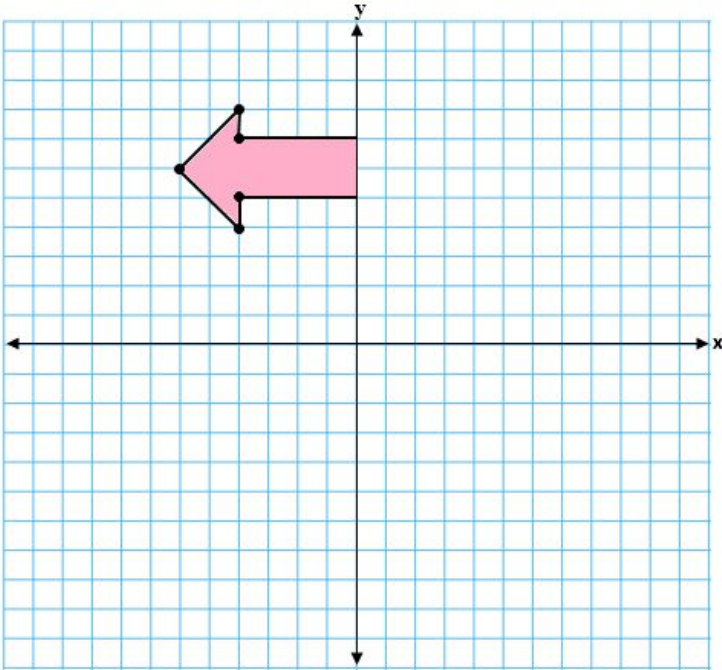


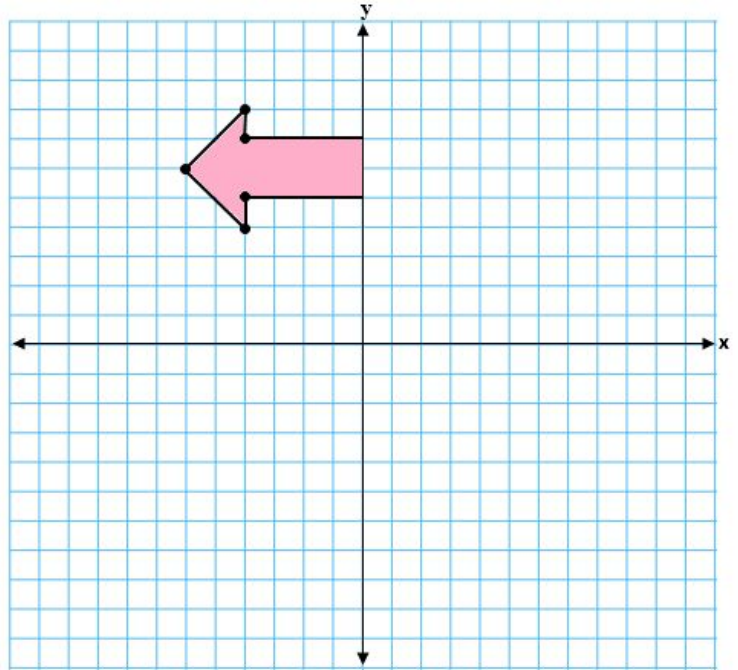
Atividade de raio x - MAT7_15GEO05

No plano cartesiano abaixo temos a metade de uma figura. Determine as coordenadas dos pontos marcados no plano. Em seguida, marque o simétrico destes pontos em relação ao eixo y para desenhar a outra metade da figura.



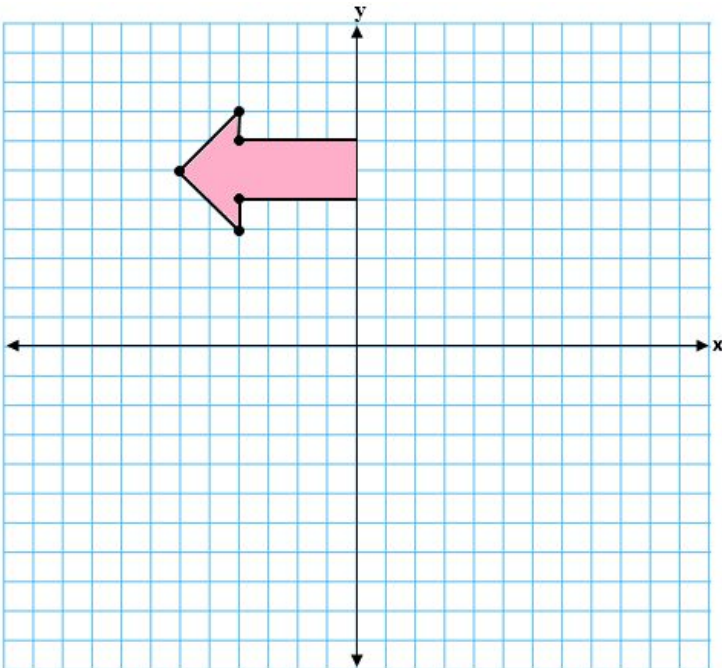
Atividade de raio x - MAT7_15GEO05

No plano cartesiano abaixo temos a metade de uma figura. Determine as coordenadas dos pontos marcados no plano. Em seguida, marque o simétrico destes pontos em relação ao eixo y para desenhar a outra metade da figura.



Atividade de raio x - MAT7_15GEO05

No plano cartesiano abaixo temos a metade de uma figura. Determine as coordenadas dos pontos marcados no plano. Em seguida, marque o simétrico destes pontos em relação ao eixo y para desenhar a outra metade da figura.



Atividade de raio x - MAT7_15GEO05

No plano cartesiano abaixo temos a metade de uma figura. Determine as coordenadas dos pontos marcados no plano. Em seguida, marque o simétrico destes pontos em relação ao eixo y para desenhar a outra metade da figura.

