


Resolução da atividade complementar - MAT1_01NUM1


1) Faça uma marca ao lado do grupo que tem mais alunos.



Os alunos deverão marcar o grupo da esquerda (9 alunos).

2) Luiz e Juca possuem os mesmos amigos.
Conte os amigos de Luiz e registre ao lado de Juca:

Luiz




Juca



O alunos irão contar os amigos de Luiz e registrá-lo ao lado de Juca. Poderão fazê-lo usando marcas ou algarismos, conforme acharem melhor.

[Desafio]

Esses são os alunos do primeiro ano:



Registre:

Quantas meninas? 5

Quantos meninos? 2

Quantos estão de vestido? 1

Tem mais meninos ou meninas? meninas

Nessa atividade os alunos darão a resposta como quiserem, com marcas ou algarismos.