



A professora de Matemática pediu aos alunos do 5º ano que medissem, com o uso de uma trena, o contorno da sala de aula.



A medida encontrada pelos alunos foi de 22 m. Sabendo que a sala tem formato de um quadrado, quanto mede cada lado da sala de aula?

---


A professora de Matemática pediu aos alunos do 5º ano que medissem, com o uso de uma trena, o contorno da sala de aula.



A medida encontrada pelos alunos foi de 22 m. Sabendo que a sala tem formato de um quadrado, quanto mede cada lado da sala de aula?

---

A professora de Matemática pediu aos alunos do 5º ano que medissem, com o uso de uma trena, o contorno da sala de aula.



A medida encontrada pelos alunos foi de 22 m. Sabendo que a sala tem formato de um quadrado, quanto mede cada lado da sala de aula?