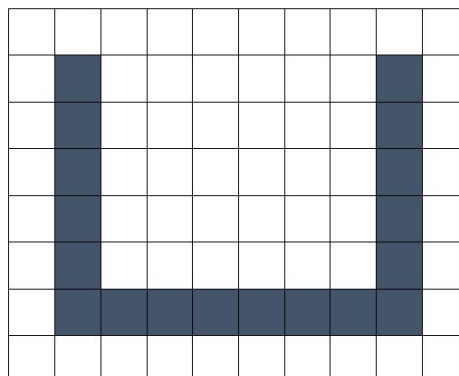
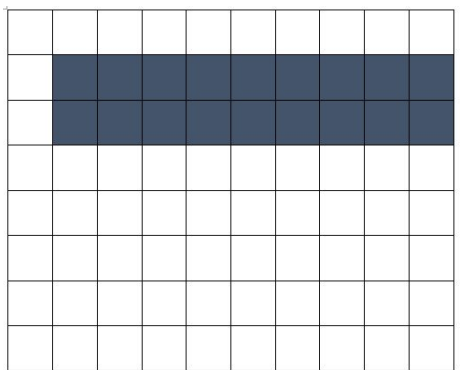
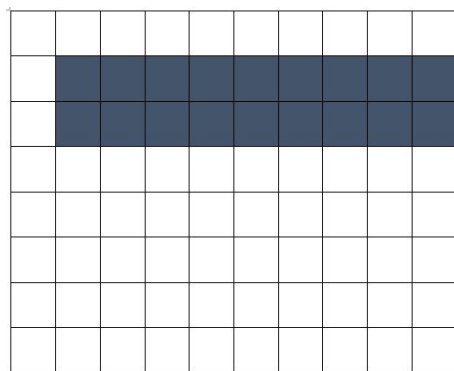
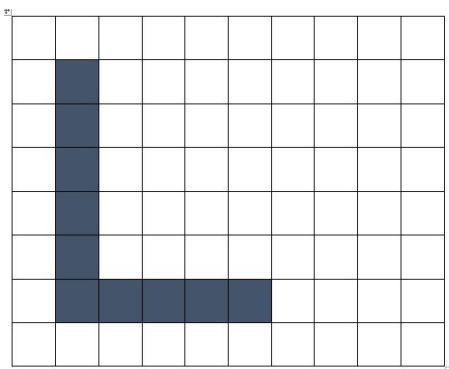


1) Calcule a área e o perímetro de cada figura e discuta os resultados encontrados:



2) Calcule a área e o perímetro de cada figura e discuta os resultados encontrados:



Desafio: Tendo as medidas da vela de um barco de forma triangular, responda:
Qual o perímetro da vela?
Qual a área da vela?

