




ATIVIDADE RAIOS X - MAT3_11ALG08




VEJA ABAIXO OS ITENS MAIS VENDIDOS NUM FINAL DE SEMANA EM UMA LOJA NO SHOPPING E DEPOIS RESPONDA ÀS PERGUNTAS:

			
SÁBADO	20	10	8
DOMINGO	8	21	10

- A) QUANTOS ITENS FORAM VENDIDOS EM CADA DIA?
- B) QUAL FOI O ITEM MAIS VENDIDO NO FINAL DE SEMANA?
- C) HAVIA ALGUMA REGULARIDADE NAS SOMAS QUE VOCÊ FEZ? QUAL?

ATIVIDADE RAIOS X - MAT3_11ALG08

VEJA ABAIXO OS ITENS MAIS VENDIDOS NUM FINAL DE SEMANA EM UMA LOJA NO SHOPPING E DEPOIS RESPONDA ÀS PERGUNTAS:

			
SÁBADO	20	10	8
DOMINGO	8	21	10

- A) QUANTOS ITENS FORAM VENDIDOS EM CADA DIA?
- B) QUAL FOI O ITEM MAIS VENDIDO NO FINAL DE SEMANA?
- C) HAVIA ALGUMA REGULARIDADE NAS SOMAS QUE VOCÊ FEZ? QUAL?