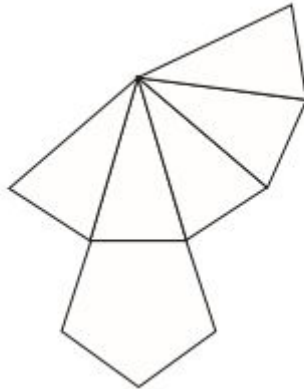
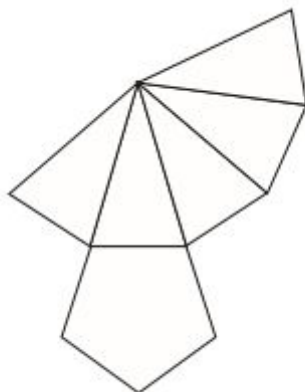


1) Observe a planificação abaixo e indique por setas quais são os segmentos de reta que irão se tocar.



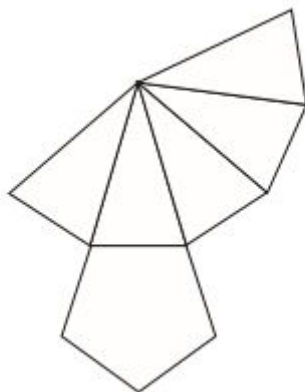
---

1) Observe a planificação abaixo e indique por setas quais são os segmentos de reta que irão se tocar

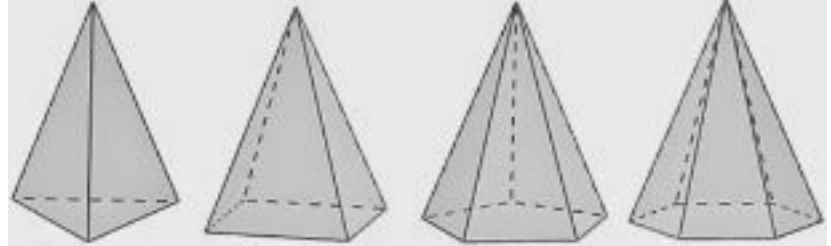


---

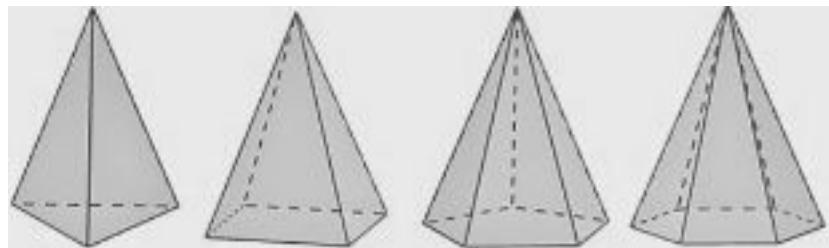
1) Observe a planificação abaixo e indique por setas quais são os segmentos de reta que irão se tocar



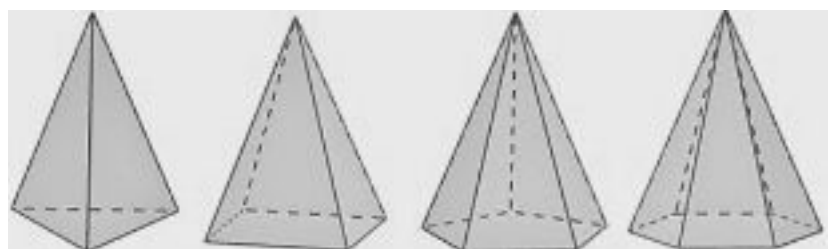
2) Com a planificação abaixo é possível montar qual poliedro? Circule-o.



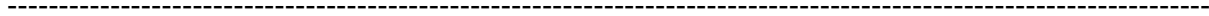
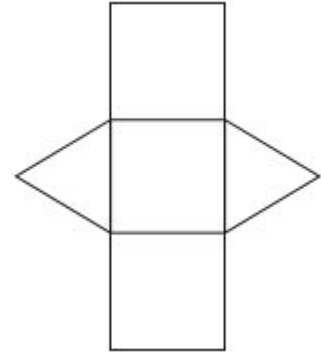
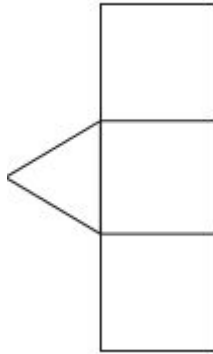
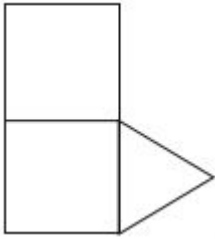
2) Com a planificação abaixo é possível montar qual poliedro? Circule-o.



2) Com a planificação abaixo é possível montar qual poliedro? Circule-o.



3) Qual das planificações abaixo tem todas as faces para a formação de um prisma triangular? Pinte-o.



3) Qual das planificações abaixo tem todas as faces para a formação de um prisma triangular? Pinte-o.

