




Um agricultor sabe que precisa plantar feijão em 54 m^2 e milho em 22 m^2 . Como seus terrenos são quadrados, estime, em metros, as medidas do lado do terreno para o plantio de feijão e do lado do terreno para plantio de milho.



Um agricultor sabe que precisa plantar feijão em 54 m^2 e milho em 22 m^2 . Como seus terrenos são quadrados, estime, em metros, as medidas do lado do terreno para o plantio de feijão e do lado do terreno para plantio de milho.



Um agricultor sabe que precisa plantar feijão em 54 m^2 e milho em 22 m^2 . Como seus terrenos são quadrados, estime, em metros, as medidas do lado do terreno para o plantio de feijão e do lado do terreno para plantio de milho.



Um agricultor sabe que precisa plantar feijão em 54 m^2 e milho em 22 m^2 . Como seus terrenos são quadrados, estime, em metros, as medidas do lado do terreno para o plantio de feijão e do lado do terreno para plantio de milho.

