



EM UMA BRINCADEIRA COM CARTAS, GANHARIA O JOGO QUEM MARCASSE 6 770 PONTOS PRIMEIRO USANDO TODAS AS SUAS CARTAS. ESTER ESTÁ JOGANDO. OBSERVE SUAS CARTAS.



LEVANDO EM CONSIDERAÇÃO OS PONTOS OBTIDOS COM AS CARTAS, DE QUANTOS PONTOS ELA AINDA PRECISA PARA GANHAR O JOGO?

---

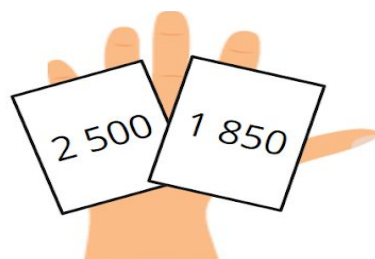
EM UMA BRINCADEIRA COM CARTAS, GANHARIA O JOGO QUEM MARCASSE 6 770 PONTOS PRIMEIRO USANDO TODAS AS SUAS CARTAS. ESTER ESTÁ JOGANDO. OBSERVE SUAS CARTAS.



LEVANDO EM CONSIDERAÇÃO OS PONTOS OBTIDOS COM AS CARTAS, DE QUANTOS PONTOS ELA AINDA PRECISA PARA GANHAR O JOGO?

---

EM UMA BRINCADEIRA COM CARTAS, GANHARIA O JOGO QUEM MARCASSE 6 770 PONTOS PRIMEIRO USANDO TODAS AS SUAS CARTAS. ESTER ESTÁ JOGANDO. OBSERVE SUAS CARTAS.



LEVANDO EM CONSIDERAÇÃO OS PONTOS OBTIDOS COM AS CARTAS, DE QUANTOS PONTOS ELA AINDA PRECISA PARA GANHAR O JOGO?