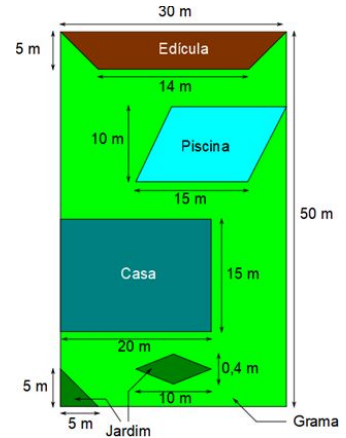


I

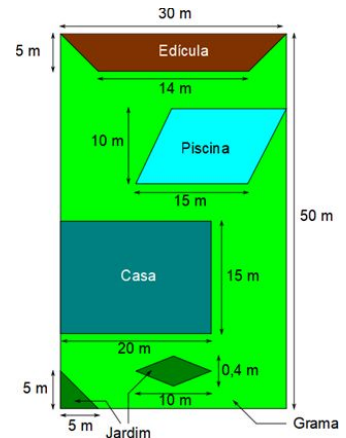
Esta é a planta baixa do terreno de uma casa de praia, nela temos uma casa e uma piscina, sendo que todo o terreno é coberto com grama.

Pergunta-se: Quantos m^2 tem a casa, a piscina, a edícula e a área coberta de grama?



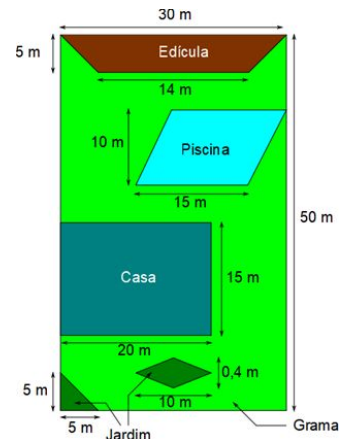
Esta é a planta baixa do terreno de uma casa de praia, nela temos uma casa e uma piscina, sendo que todo o terreno é coberto com grama.

Pergunta-se: Quantos m^2 tem a casa, a piscina, a edícula e a área coberta de grama?



Esta é a planta baixa do terreno de uma casa de praia, nela temos uma casa e uma piscina, sendo que todo o terreno é coberto com grama.

Pergunta-se: Quantos m^2 tem a casa, a piscina, a edícula e a área coberta de grama?



Esta é a planta baixa do terreno de uma casa de praia, nela temos uma casa e uma piscina, sendo que todo o terreno é coberto com grama.

Pergunta-se: Quantos m^2 tem a casa, a piscina, a edícula e a área coberta de grama?

