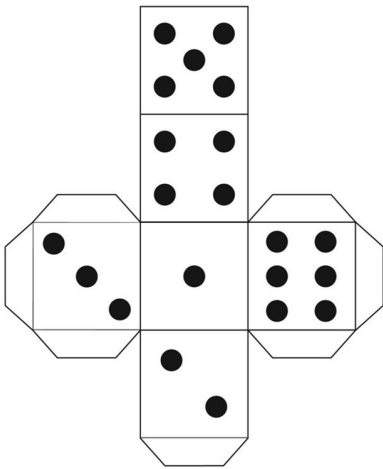


ATIVIDADE PRINCIPAL - MAT2_16GEO04

1. O DADO QUE NOSSA TURMA OBSERVOU NO INÍCIO DA AULA FOI DESMONTADO




QUANTAS PARTES TEM O DADO?

TODAS AS PARTES DO DADO SÃO IGUAIS?

QUE FIGURAS PLANAS SUAS PARTES LEMBRAM?


2. GUILHERME REPRESENTOU O RELÓGIO DE PAREDE VISTO DE FRENTE



A IMAGEM DESENHADA POR GUILHERME LEMBRA UMA FIGURA PLANA OU NÃO PLANA? QUAL? _____

3. KARINA TAMBÉM QUIS REPRESENTAR O TELHADO DE UMA CASA VISTO DE FRENTE.

A IMAGEM REPRESENTADA POR KARINA LEMBRA QUAL FIGURA PLANA?



SE KARINA RESOLVESSE REPRESENTAR UM RETÂNGULO. QUE PARTE DA CASA ELA DEVERIA DESENHAR?