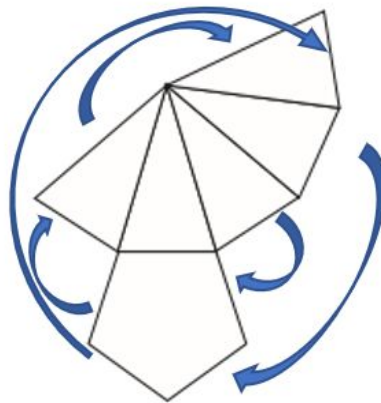


## Resolução da atividade complementar - MAT4\_20GEO09

1) Observe a planificação abaixo e indique por setas quais são os segmentos de reta que irão se tocar.

Resposta:

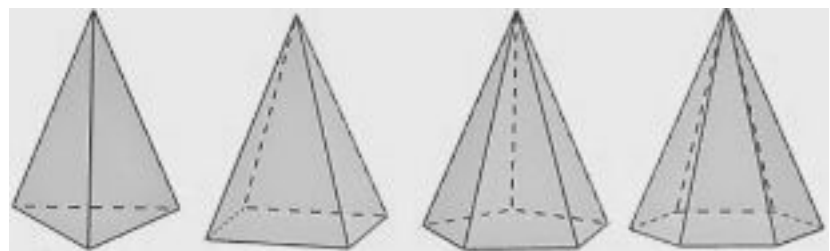
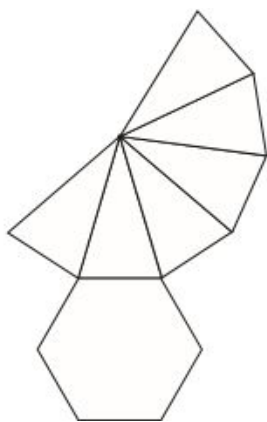


---

-

2) Com a planificação abaixo é possível montar qual poliedro? Circule-o.

Resposta:



---

-

3) Qual das planificações abaixo tem todas as faces para a formação de um prisma triangular? Pinte-o.

Resposta:

