



O segmento de reta abaixo indica o intervalo de 0 a 1.



Localize neste intervalo as frações $\frac{1}{2}$, $\frac{1}{3}$, $\frac{2}{3}$, $\frac{3}{6}$ e $\frac{4}{6}$.

Descreva como você fez para localizar cada uma das frações. Você observa alguma característica especial em algumas delas?


O segmento de reta abaixo indica o intervalo de 0 a 1.



Localize neste intervalo as frações $\frac{1}{2}$, $\frac{1}{3}$, $\frac{2}{3}$, $\frac{3}{6}$ e $\frac{4}{6}$.

Descreva como você fez para localizar cada uma das frações. Você observa alguma característica especial em algumas delas?

O segmento de reta abaixo indica o intervalo de 0 a 1.



Localize neste intervalo as frações $\frac{1}{2}$, $\frac{1}{3}$, $\frac{2}{3}$, $\frac{3}{6}$ e $\frac{4}{6}$.

Descreva como você fez para localizar cada uma das frações. Você observa alguma característica especial em algumas delas?