


Atividade complementar 1 MAT4_19GEO02

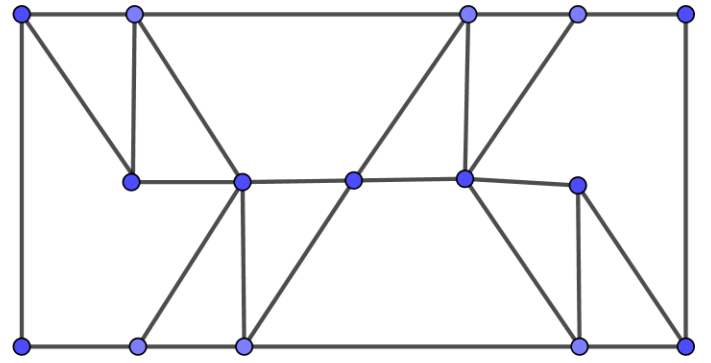
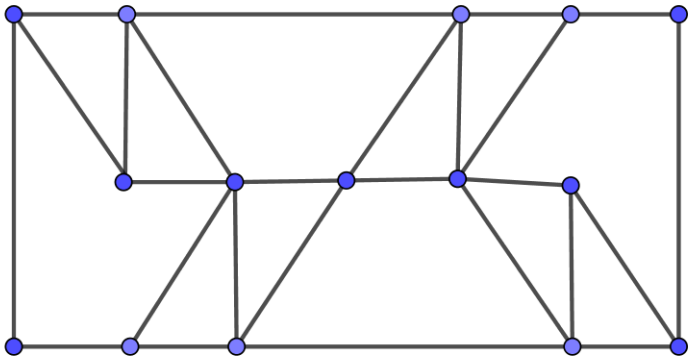
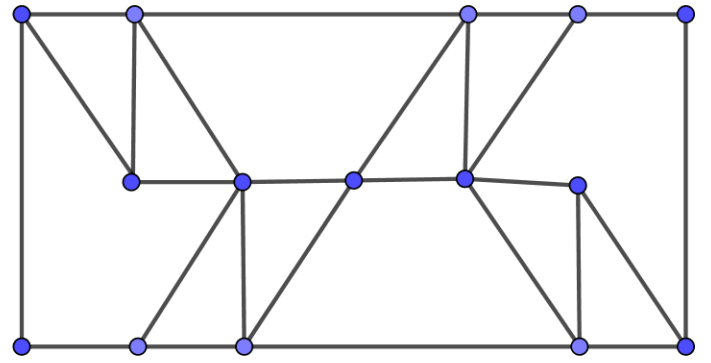
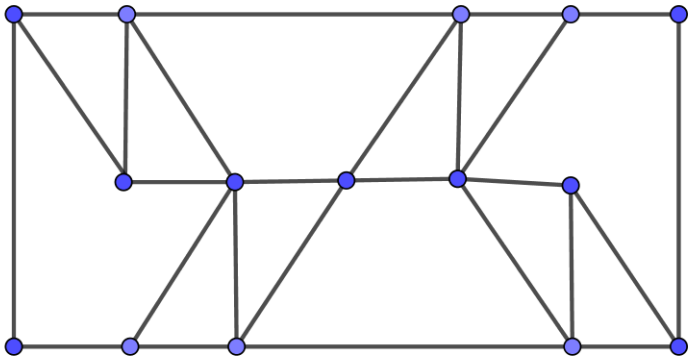
Luiz Sacilotto (1924-2003) foi um importante pintor, escultor e desenhista brasileiro. Veja uma de suas obras:



Luiz Sacilotto. **Concreção 6048**. 1960.

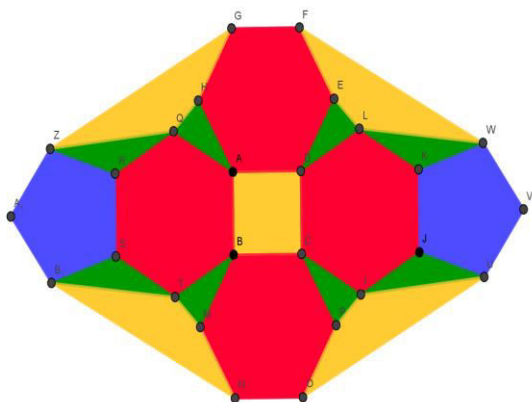
- 1) Qual é o nome dos polígonos cujas áreas internas se apresentam pintadas de branco e de preto? Quantos lados e quantos ângulos possuem esses polígonos?
- 2) Quais são os nomes dos polígonos cujas áreas internas se apresentam pintadas de roxo? Quantos lados e quantos ângulos possuem esses polígonos?

Obra de Luiz Sacilotto para imprimir e colorir



Atividade complementar 2 DesafioMAT4_19GEO02

Desafio



Você é capaz de descobrir quantos polígonos formam esta imagem? Se conseguir, escreva o nome, quantos ângulos e quantos lados cada um possui.

Atividade complementar 3 - MAT4_19GEO02

Faça um desenho sobre a malha quadriculada usando apenas polígonos e nomeie os polígonos utilizados no desenho. Se preferir, pode usar uma folha de papel quadriculado.

