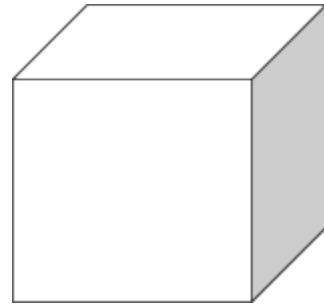
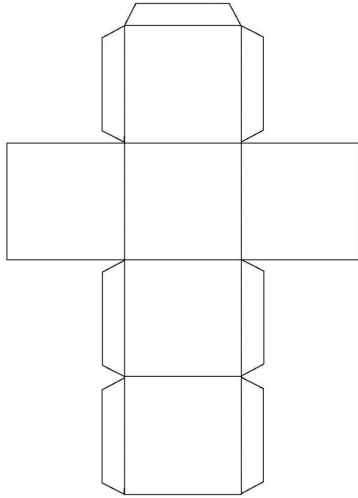


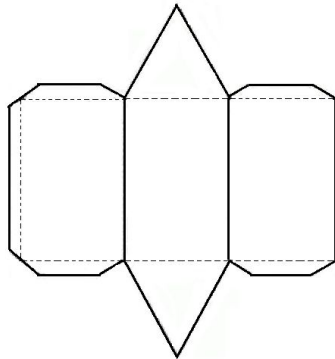
ATIVIDADE COMPLEMENTAR 1

Observe os poliedros abaixo e suas respectivas planificações e assinale V para VERDADEIRO e F para FALSO.



- V
- F



- V
- F

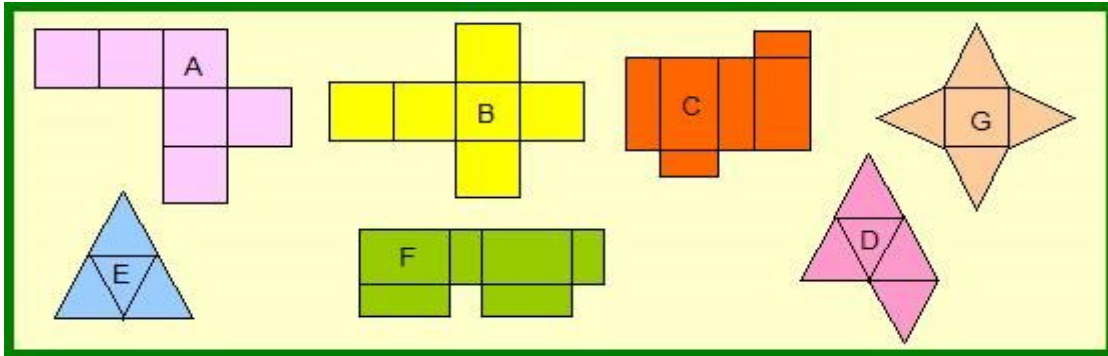


- V
- F



ATIVIDADE COMPLEMENTAR 2

Observe as planificações abaixo:

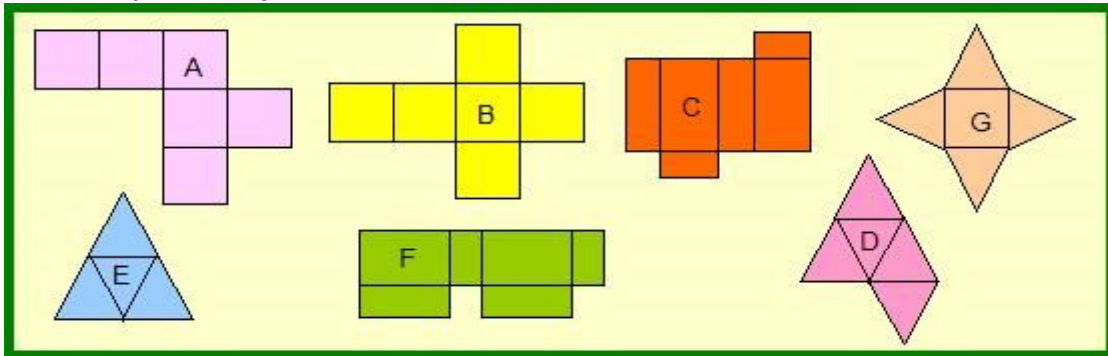


Responda:

1. Quais são os prismas? _____
2. Quais são as pirâmides? _____
3. Quais as propriedades (características) que fez com que você agrupasse ou separasse as planificações?

ATIVIDADE COMPLEMENTAR 2

Observe as planificações abaixo:




Responda:

1. Quais são os prismas? _____
2. Quais são as pirâmides? _____
3. Quais as propriedades (características) que fez com que você agrupasse ou separasse as planificações?

ATIVIDADE COMPLEMENTAR 3


DESAFIO



A planificação de qual poliedro é possível formar com as faces abaixo?.




DESAFIO



A planificação de qual poliedro é possível formar com as faces abaixo?.



DESAFIO



A planificação de qual poliedro é possível formar com as faces abaixo?..

