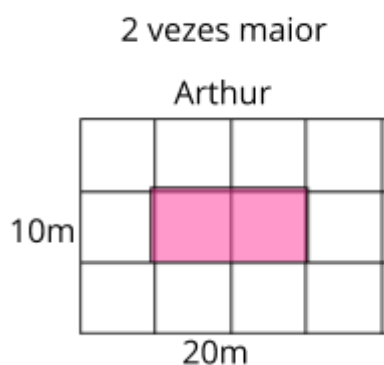
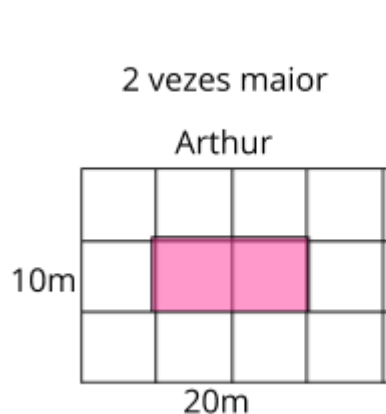
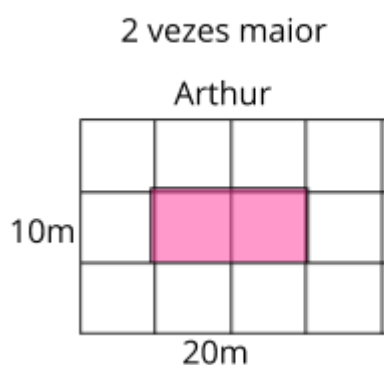


Observe os desenhos criados por Arthur e Maria e, seguindo as orientações do professor, ajude-os a descobrir quais as dimensões da nova quadra.



Observe os desenhos criados por Arthur e Maria e, seguindo as orientações do professor, ajude-os a descobrir quais as dimensões da nova quadra.



Malha quadriculada:

