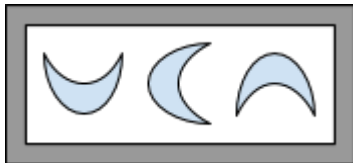





## Atividade complementar - MAT1\_06ALG02

1-OBSERVE E CIRCULE COM LÁPIS, NO QUADRO ABAIXO DE CADA SEQUÊNCIA, O PRÓXIMO ELEMENTO QUE DARÁ CONTINUIDADE À ELA.



2-OBSERVE O PADRÃO DAS FITAS ABAIXO E CONTINUE A SEQUÊNCIA DESENHANDO.





**[DESAFIO]** OBSERVE A SEQUÊNCIA ABAIXO E COMPLETE-A DESENHANDO OS ELEMENTOS SEGUINTE.

