

A figura abaixo é um octógono/octágono regular, inscrito em uma circunferência de centro I. Analise a imagem e determine a medida dos ângulos dados:

JIQ: _____

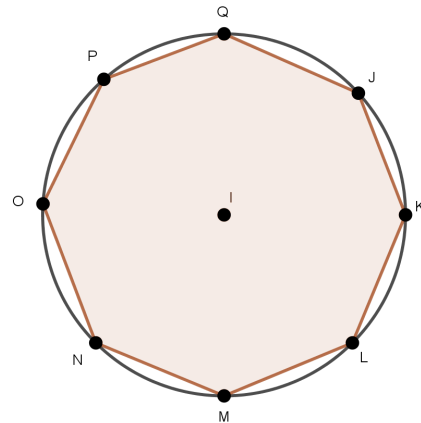
PQJ: _____

PIN: _____

ILK: _____

OIK: _____

PON: _____



- Qual destes é o ângulo central?
- Quanto mede o ângulo inscrito nessa circunferência?

A figura abaixo é um octógono/octágono regular, inscrito em uma circunferência de centro I. Analise a imagem e determine a medida dos ângulos dados:

JIQ: _____

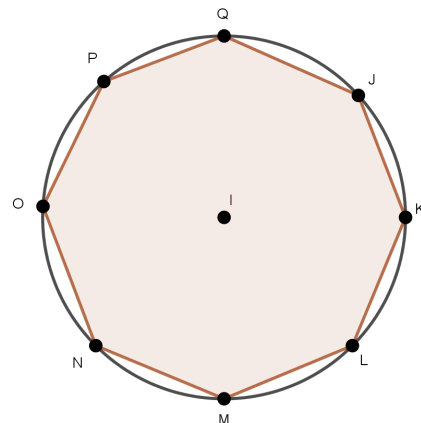
PQJ: _____

PIN: _____

ILK: _____

OIK: _____

PON: _____



- Qual destes é o ângulo central?
- Quanto mede o ângulo inscrito nessa circunferência?

A figura abaixo é um octógono/octágono regular, inscrito em uma circunferência de centro I. Analise a imagem e determine a medida dos ângulos dados:

JIQ: _____

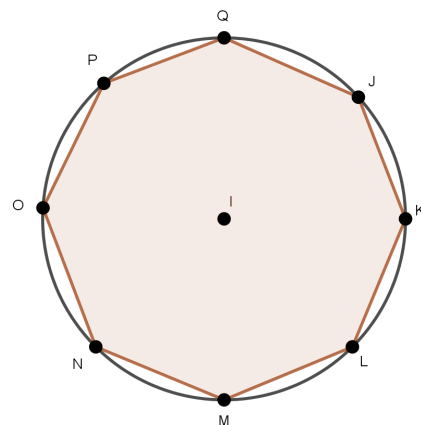
PQJ: _____

PIN: _____

ILK: _____

OIK: _____

PON: _____



- Qual destes é o ângulo central?
- Quanto mede o ângulo inscrito nessa circunferência?