



ATIVIDADE RAIO X - MAT03_15GEO 05


ESSA IMAGEM É COMPOSTA POR FORMAS PLANAS OU NÃO PLANAS?
JUSTIFIQUE, NOMEANDO AS FORMAS.



ESSA IMAGEM É COMPOSTA POR FORMAS PLANAS OU NÃO PLANAS?
JUSTIFIQUE, NOMEANDO AS FORMAS.



ESSA IMAGEM É COMPOSTA POR FORMAS PLANAS OU NÃO PLANAS?
JUSTIFIQUE, NOMEANDO AS FORMAS.



ESSA IMAGEM É COMPOSTA POR FORMAS PLANAS OU NÃO PLANAS?
JUSTIFIQUE, NOMEANDO AS FORMAS.

