






1. A MÃE DE CAROLINA COMPROU 250 SALGADINHOS PARA SEU ANIVERSÁRIO, SENDO A METADE DE QUEIJO E A OUTRA METADE DE CARNE. QUANTOS SALGADINHOS DE CADA TIPO A MÃE DE CAROLINA COMPROU?

-

2. EM UMA CORRIDA DE CARROS, O CAMPEÃO FOI O CARRO VERMELHO, QUE COMPLETOU AS 62 VOLTAS DA CORRIDA. PORÉM, OS CARROS QUE CONSEGUIRAM FAZER MAIS DA METADE DAS VOLTAS SE CLASSIFICAVAM PARA A PRÓXIMA CORRIDA. DE ACORDO COM A TABELA, QUAIS CARROS ESTÃO CLASSIFICADOS PARA A PRÓXIMA CORRIDA? JUSTIFIQUE.

| | | | | |
|---|---|---|--|---|
|  |  |  |  |  |
| 62 VOLTAS | 30 VOLTAS | 45 VOLTAS | 29 VOLTAS | 54 VOLTAS |

-

3. DESAFIO





LUCIANA TEM DUAS HORAS E MEIA DE ALMOÇO E HOJE PRECISA IR AO MERCADO E ALMOÇAR. DECIDIU QUE DEIXARIA METADE DO TEMPO PARA CADA TAREFA. SABENDO QUE UMA HORA TEM 60 MINUTOS, QUANTO TEMPO LUCIANA TERÁ PARA CADA TAREFA?



1. A MÃE DE CAROLINA COMPROU 250 SALGADINHOS PARA SEU ANIVERSÁRIO, SENDO A METADE DE QUEIJO E A OUTRA METADE DE CARNE. QUANTOS SALGADINHOS DE CADA TIPO A MÃE DE CAROLINA COMPROU?

-

2. EM UMA CORRIDA DE CARROS, O CAMPEÃO FOI O CARRO VERMELHO, QUE COMPLETOU AS 62 VOLTAS DA CORRIDA. PORÉM, OS CARROS QUE CONSEGUIRAM FAZER MAIS DA METADE DAS VOLTAS SE CLASSIFICAVAM PARA A PRÓXIMA CORRIDA. DE ACORDO COM A TABELA, QUAIS CARROS ESTÃO CLASSIFICADOS PARA A PRÓXIMA CORRIDA? JUSTIFIQUE.

| | | | | |
|---|---|---|--|---|
|  |  |  |  |  |
| 62 VOLTAS | 30 VOLTAS | 45 VOLTAS | 29 VOLTAS | 54 VOLTAS |

-

3. DESAFIO

LUCIANA TEM DUAS HORAS E MEIA DE ALMOÇO E HOJE PRECISA IR AO MERCADO E ALMOÇAR. DECIDIU QUE DEIXARIA METADE DO TEMPO



PARA CADA TAREFA. SABENDO QUE UMA HORA TEM 60 MINUTOS, QUANTO TEMPO LUCIANA TERÁ PARA CADA TAREFA?