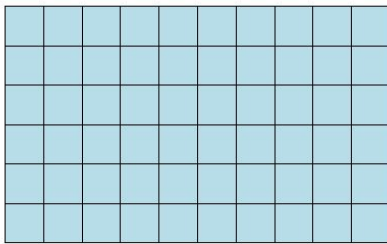
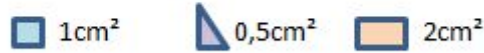




O professor de Leonardo pediu que ele desenhasse 3 retângulos congruentes usando cada uma das unidades de medida abaixo. Depois, pediu para que ele calculasse seus perímetros e áreas.


- Quais as medidas do perímetro e da área encontradas por Leonardo?
- O que se pode concluir sobre a relação entre os retângulos e a unidade de medida utilizada?

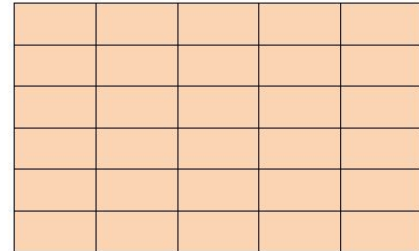
Medidas das unidades:




Unidade de medida: 



Unidade de medida: 

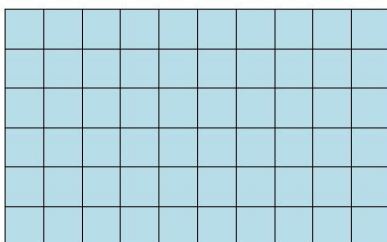
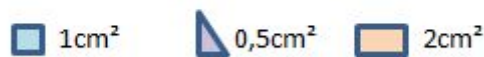



Unidade de medida: 


O professor de Leonardo pediu que ele desenhasse 3 retângulos congruentes usando cada uma das unidades de medida abaixo. Depois, pediu para que ele calculasse seus perímetros e áreas.


- Quais as medidas do perímetro e da área encontradas por Leonardo?
- O que se pode concluir sobre a relação entre os retângulos e a unidade de medida utilizada?

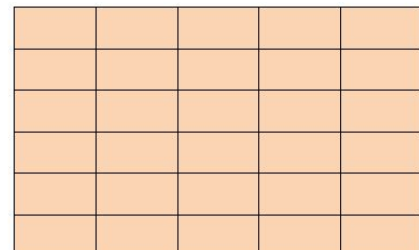
Medidas das unidades:



Unidade de medida: 



Unidade de medida: 



Unidade de medida: 