






## Resolução da Atividade de Aquecimento - MAT3\_02NUM01 - Relação entre unidade, dezena, centena e unidade de milhar

VOCÊ PODE AJUDAR A FAZER AS TROCAS DE CAUÊ E PREENCHER AS LACUNAS COM ALGARISMOS PARA REPRESENTAR AS QUANTIDADES? A PRIMEIRA JÁ ESTÁ FEITA.

|   |  |
|---|--|
| <br>(CEM REAIS)              | <p>CAUÊ TROCOU UMA CÉDULA DE 100 REAIS POR <b>10 (DEZ)</b> CÉDULAS DE  (DEZ REAIS). ASSIM, VIU QUE COM <b>10</b> DEZENAS ELE FORMA <b>1(UMA)</b> CENTENA.</p> |
| <br>(DEZ REAIS)              | <p>TROCOU UMA CÉDULA DE 10 REAIS POR <b>10</b> MOEDAS DE  (UM REAL). ELE DESCOBRIU QUE EM UMA DEZENA ELE TEM <b>10</b> UNIDADES.</p>                          |
| <br>(DUZENTOS E DEZ REAIS) | <p>EM 210 REAIS CAUÊ DESCOBRIU QUE ELE TEM <b>2</b> CENTENAS MAIS <b>10</b> DEZENAS. PORTANTO <b>210</b> UNIDADES.</p>   |

### Relacionando centena, dezena e unidade.

EM 100 REAIS (UMA CENTENA) TEMOS 10 DEZENAS AO TODO.  
EM 10 REAIS (UMA DEZENA) TEMOS 10 UNIDADES AO TODO.

ASSIM...

EM 200 REAIS (DUAS CENTENAS) TEMOS 20 DEZENAS AO TODO.  
EM 20 REAIS (DUAS DEZENAS) TEMOS 20 UNIDADES AO TODO.