


Atividade 1

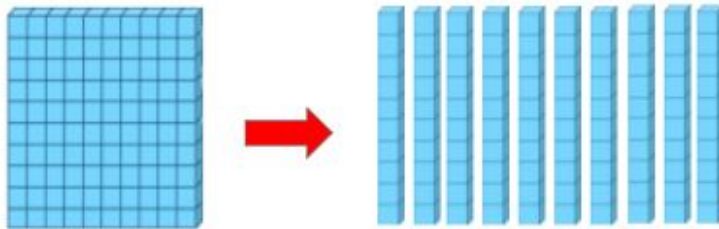


Unidades				Decimais		
Centena	Dezena	Unidade	,	Décimo	Centésimo	Milésimo

Tenho que colocar, no quadro de ordens, o número decimal composto pelas pecinhas acima, considerando a plaquinha como a unidade.



Atividade 2

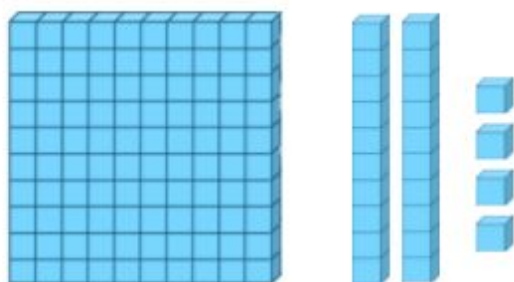


Unidades				Decimais		
Centena	Dezena	Unidade	,	Décimo	Centésimo	Milésimo

Troquei uma plaquinha por dez barrinhas. Fiquei com a mesma quantidade? Como posso representar essas dez barrinhas no quadro de valores?



Atividade 3



Unidades				Decimais		
Centena	Dezena	Unidade	,	Décimo	Centésimo	Milésimo

Preciso registrar, no quadro de ordens a seguir, a representação do material ao lado: a plaquinha, que corresponde à unidade, as duas barrinhas e os cubinhos. Também preciso indicar o valor posicional de cada algarismo.

