

Atividade de Raio X - MAT7_16GEO01

Relacione as imagens ao nome da simetria correspondente.

(A) Translação


(B) Rotação

(C) Reflexão


()



()



()



Relacione as imagens ao nome da simetria correspondente.

(A) Translação


(B) Rotação

(C) Reflexão

()



()



()

