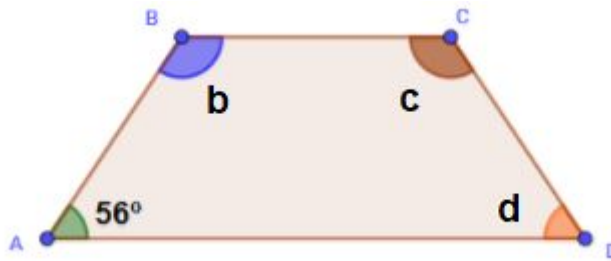
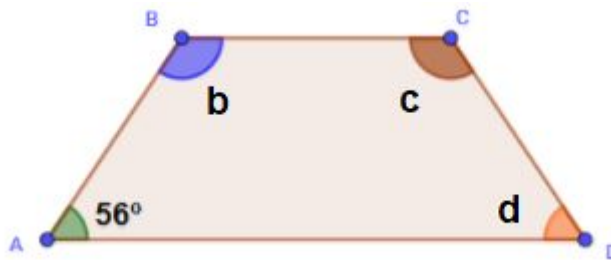


Isto é um trapézio isósceles. Os ângulos de suas duas bases são congruentes. Dê o valor dos ângulos: b, c, d.



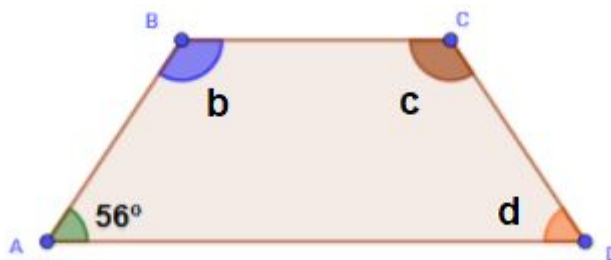
---

Isto é um trapézio isósceles. Os ângulos de suas duas bases são congruentes. Dê o valor dos ângulos: b, c, d.



---

Isto é um trapézio isósceles. Os ângulos de suas duas bases são congruentes. Dê o valor dos ângulos: b, c, d.



---

Isto é um trapézio isósceles. Os ângulos de suas duas bases são congruentes. Dê o valor dos ângulos: b, c, d.

