


RESOLUÇÃO - RAIO X - MAT01_17PES03

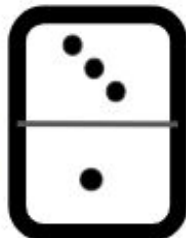
DANIEL E GUILHERME ESTÃO JOGANDO DOMINÓ, SENDO QUE OS DOIS SÓ TEM UMA PEÇA CADA UM.

OBSERVE:




CIRCULE QUEM COM CERTEZA GANHARÁ ESTE JOGO?

DANIEL



GUILHERME



Os alunos circularão Daniel como quem com certeza irá ganhar o jogo, pois ele é o único que possui a peça que se encaixa em um dos lados do dominó