

ATIVIDADE 1 - RESPONDA CALCULANDO MENTALMENTE:

1) QUAIS FATORES APRESENTAM O MAIOR PRODUTO?

- (A) 5×8
- (B) 7×3
- (C) 6×7

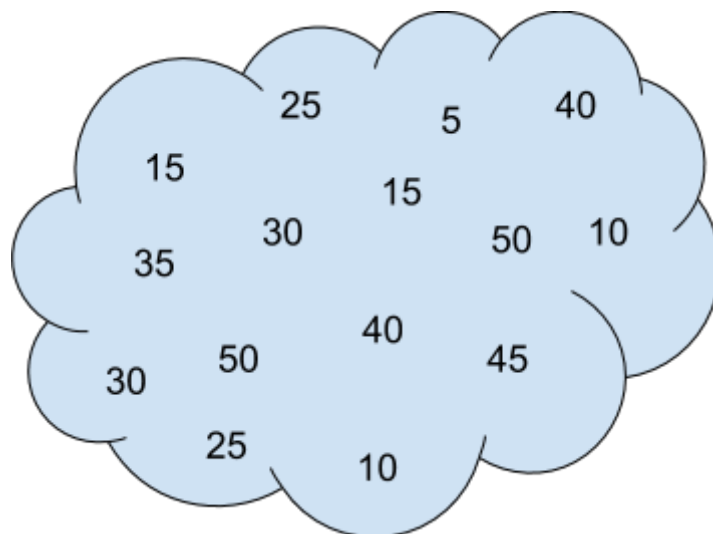
- (A) 9×4
- (B) 6×5
- (C) 7×7

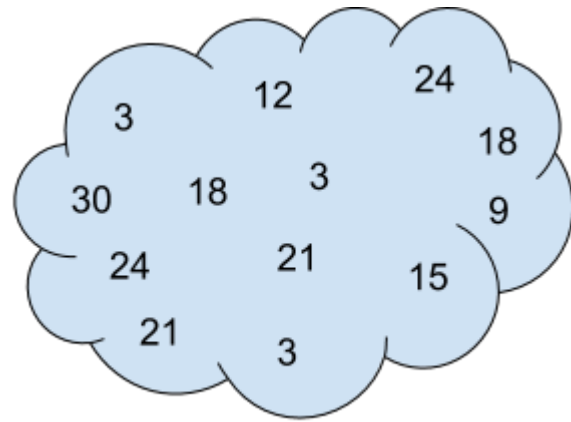
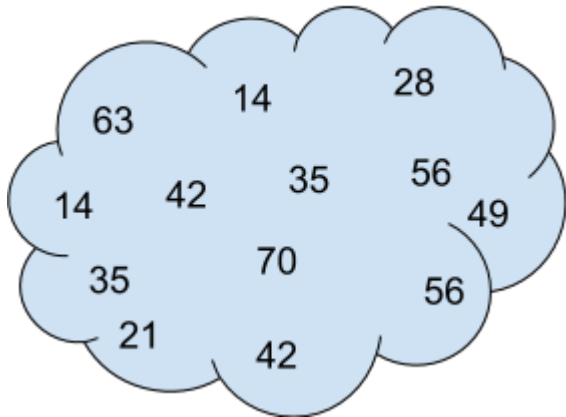
2) QUAIS FATORES APRESENTAM O MENOR PRODUTO?

- (A) 4×9
- (B) 8×2
- (C) 3×7

- (A) 2×9
- (B) 8×3
- (C) 3×4

ATIVIDADE 2 - ENCONTRE O PRODUTO DAS TABUADAS QUE ESTÁ FALTANDO NOS CONJUNTOS:





ATIVIDADE 3 (DESAFIO) - SUDOKU DA MULTIPLICAÇÃO

DISPONHA OS PRODUTOS DAS MULTIPLICAÇÕES NO DIAGRAMA NA HORIZONTAL OU NA VERTICAL, RESPEITANDO A REGRA DE QUE EM CADA SUBDIVISÃO DO QUADRADO (3X3) NÃO PODE HAVER NÚMERO DE 1 A 9 REPETIDO.

- 2 X 8 =
- 7 X 1 =
- 3 X 3 =
- 4 X 8 =
- 5 X 3 =
- 2 X 4 =
- 9 X 7 =
- 5 X 1 =
- 3 X 8 =
- 7 X 3 =
- 2 X 7 =