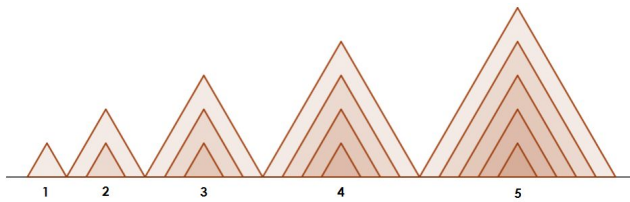


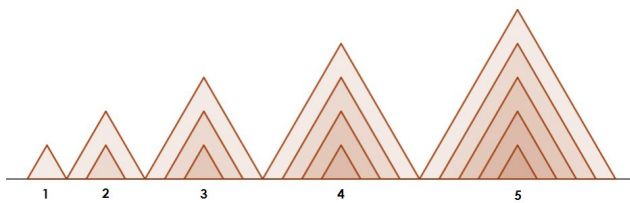
Puxa! Como será uma figura bem maior? Qual será a razão entre a décima figura e a terceira?

---



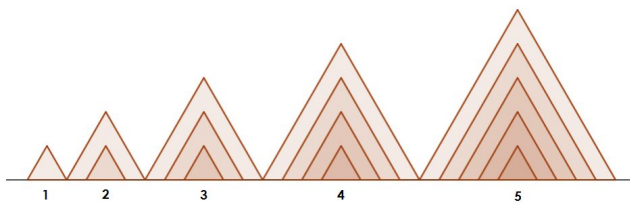
Puxa! Como será uma figura bem maior? Qual será a razão entre a décima figura e a terceira?

---



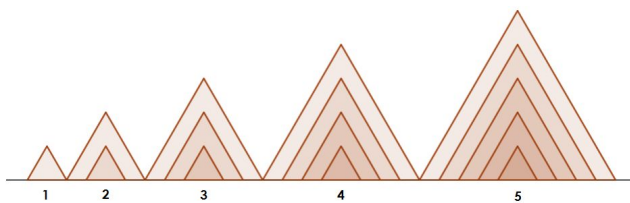
Puxa! Como será uma figura bem maior? Qual será a razão entre a décima figura e a terceira?

---



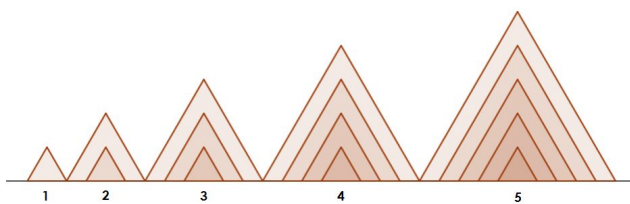
Puxa! Como será uma figura bem maior? Qual será a razão entre a décima figura e a terceira?

---



Puxa! Como será uma figura bem maior? Qual será a razão entre a décima figura e a terceira?

---



Puxa! Como será uma figura bem maior? Qual será a razão entre a décima figura e a terceira?