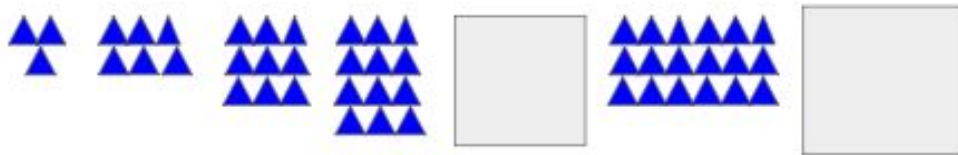



Observe as sequências abaixo. Você consegue identificar qual seria o elemento que está faltando em cada uma? Faça os desenhos nos retângulos vazios.





Observe as sequências abaixo. Você consegue identificar qual seria o elemento que está faltando em cada uma? Faça os desenhos nos retângulos vazios.



E se trocarmos os desenhos por números? Como ficariam cada uma das sequências? Coloque os números no traço abaixo de cada elemento e tente descobrir as relações entre eles em cada sequência.







E se trocarmos os desenhos por números? Como ficariam cada uma das sequências? Coloque os números no traço abaixo de cada elemento e tente descobrir as relações entre eles em cada sequência.

