




NOME: _____

A AULA DE HOJE FOI MUITO LEGAL, NÃO É MESMO?
AGORA VAMOS COLOCAR EM PRÁTICA O QUE APRENDEMOS! QUERO VER SE
VOCÊS CONSEGUEM JOGAR O MINI TWISTER!

OBSERVE AS FIGURAS PLANAS ABAIXO E COLOQUE AS NUMERAÇÕES DO
BANCOS DE DADOS RELACIONANDO COM SUAS NOMENCLATURAS E
CARACTERÍSTICAS.



- (1) TEM 4 LADOS
- (2) QUADRADO
- (3) TEM 4 LADOS IGUAIS
- (4) TRIÂNGULO
- (5) NÃO TEM LADOS
- (6) TEM 4 VÉRTICES E 4 LADOS
- (7) NÃO TEM VÉRTICE
- (8) TEM 3 LADOS E 3 VÉRTICES