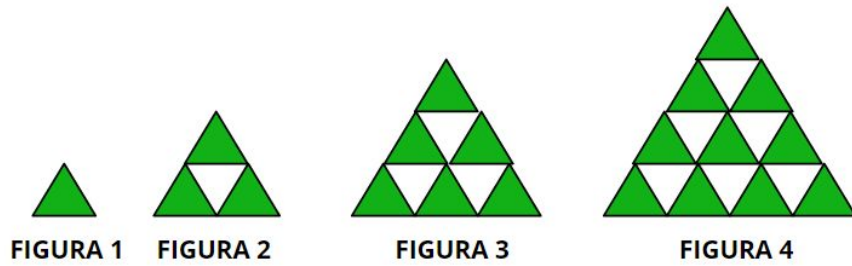
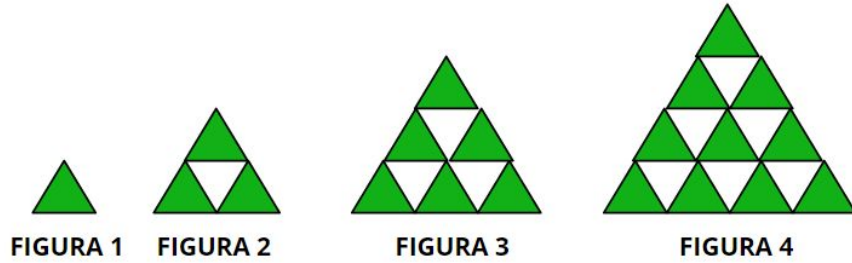


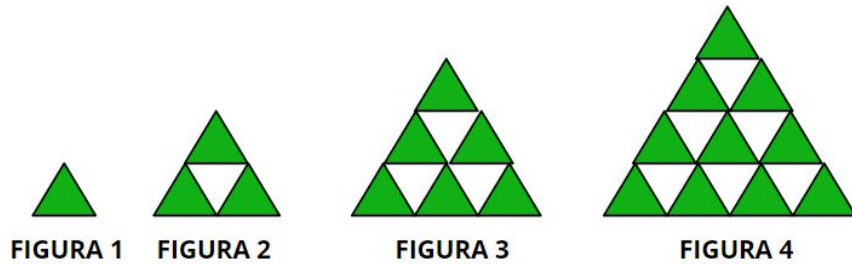
OBSERVE AS FIGURAS E DETERMINE DE QUANTOS TRIÂNGULOS SERÁ COMPOSTA A FIGURA 5.  
DESENHE A FIGURA QUE ENCONTROU.



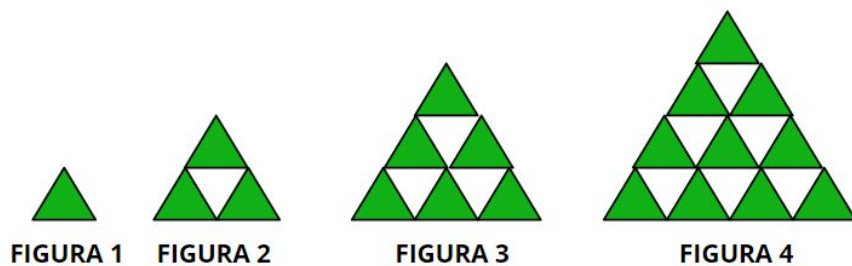
OBSERVE AS FIGURAS E DETERMINE DE QUANTOS TRIÂNGULOS SERÁ COMPOSTA A FIGURA 5.  
DESENHE A FIGURA QUE ENCONTROU.



OBSERVE AS FIGURAS E DETERMINE DE QUANTOS TRIÂNGULOS SERÁ COMPOSTA A FIGURA 5.  
DESENHE A FIGURA QUE ENCONTROU.



OBSERVE AS FIGURAS E DETERMINE DE QUANTOS TRIÂNGULOS SERÁ COMPOSTA A FIGURA 5.  
DESENHE A FIGURA QUE ENCONTROU.



OBSERVE AS FIGURAS E DETERMINE DE QUANTOS TRIÂNGULOS SERÁ COMPOSTA A FIGURA 5.  
DESENHE A FIGURA QUE ENCONTROU.

