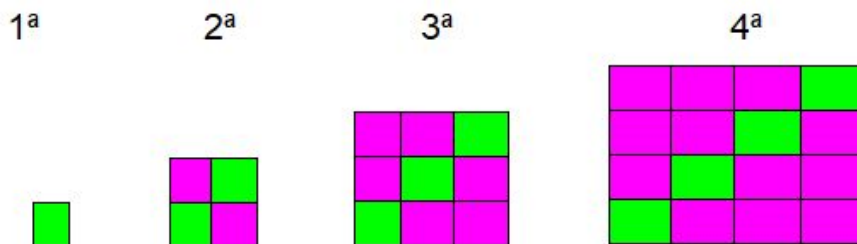


Atividades Complementares - MAT5_12ALG02

1- Observe a sequência de figuras e responda.

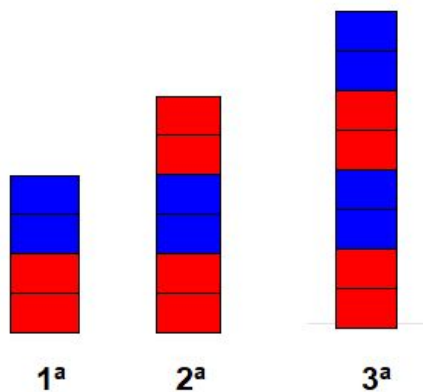


a) Desenhe a figura seguinte.

b) Quantos quadrados verdes teremos na 7ª figura?

c) Quantos quadrados rosas teremos na 9ª figura?

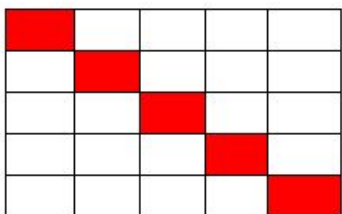
2- Continue a sequência desenhando a próxima figura.



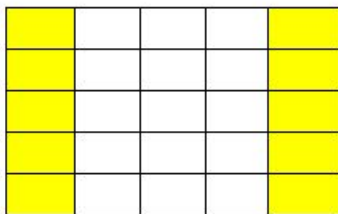
[Desafio] Helena desenhou um quadro onde colocou os números pares e depois construiu três quadros e coloriu alguns quadrados.

2	4	6	8	10
12	14	16	18	20
22	24	26	28	30
32	34	36	38	40
42	44	46	48	50

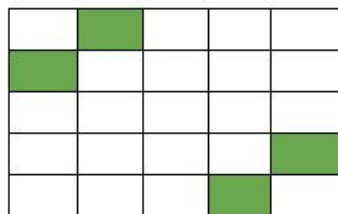
a)



b)



c)



Observando o primeiro quadro com numerais, quais as regras utilizadas por Helena para pintar cada um dos quadros?