

Resolução das atividades complementares - MAT1_16GRM02

1) LEIA OS VALORES E CRIE REPRESENTAÇÕES, UTILIZANDO CÉDULAS DO SISTEMA MONETÁRIO BRASILEIRO:

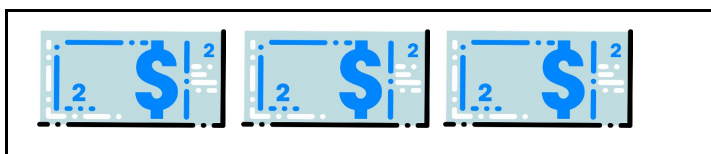
R\$ 14,00

Representações possíveis:



R\$ 6,00

Representação possível:



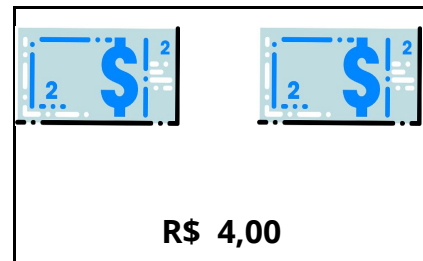
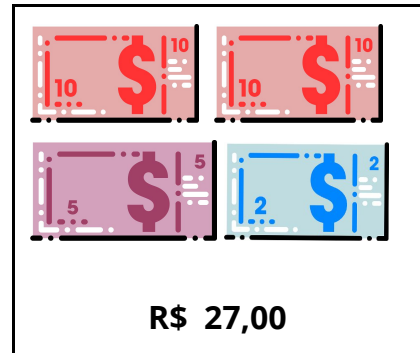
O registro da representação poderá ser feito por meio de desenhos.

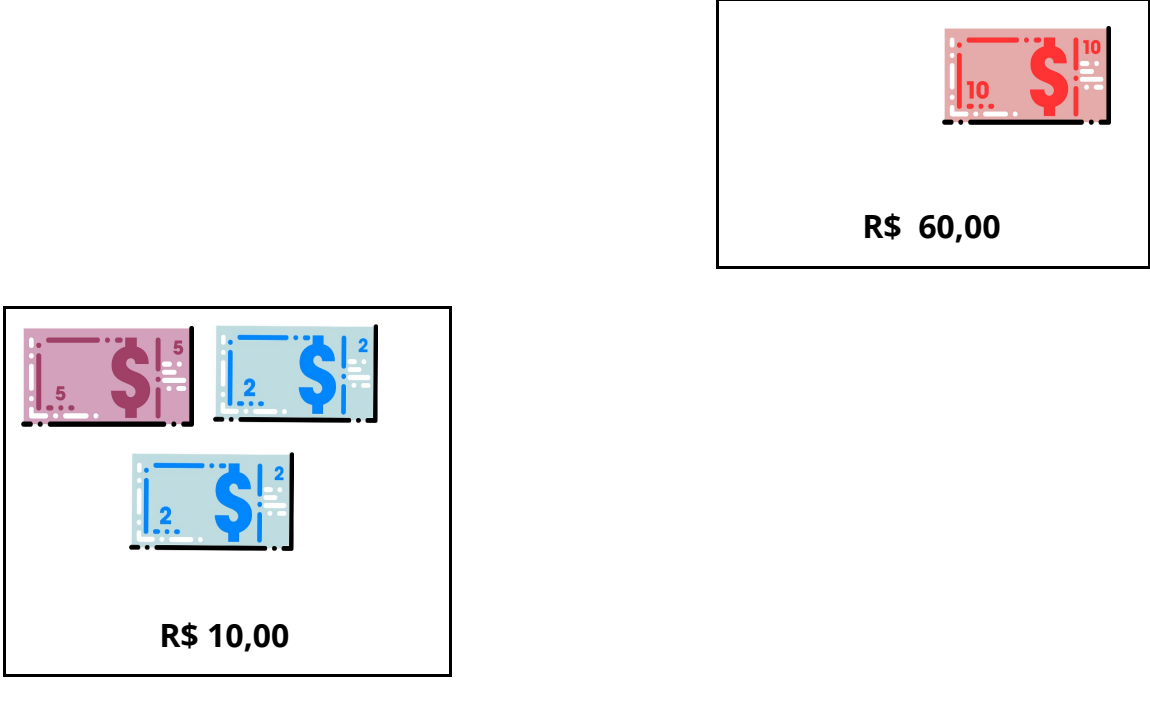
2) ESCREVA OS VALORES REPRESENTADOS PELAS CÉDULAS:

	<p>R\$ 15,00 OU QUINZE REAIS</p>
	<p>R\$ 12,00 OU DOZE REAIS</p>
	<p>R\$ 32,00 OU TRINTA E DOIS REAIS</p>
	<p>R\$ 17,00 OU DEZESSETE REAIS</p>

É interessante explorar a escrita numérica para que o aluno possa ir estabelecendo relações com o uso da vírgula e do zero.

[DESAFIO] OBSERVE O QUADRO ABAIXO, LEIA, ESCREVA OS VALORES REPRESENTADOS E ORGANIZE EM SEU CADERNO, DO MENOR PARA O MAIOR VALOR, UTILIZANDO OS VALORES ESCRITOS:





R\$ 60,00

R\$ 10,00

Após completar os valores na escrita numérica, a organização do varal poderá ser feita de duas maneiras:

Primeira: recortando os quadrados acima, e organizando-os numa folha de sulfite, como num varal, com ilustrações pessoais;

Segunda: transcrevendo a escrita numérica na ordem crescente, numa folha de sulfite, como num varal, com ilustrações pessoais;

Resposta - Ordem Crescente das escritas numéricas:

R\$ 4,00 - R\$ 7,00 - R\$ 10,00 - R\$ 24,00 - R\$ 27,00 - R\$ 60,00