

1) OS GRÁFICOS MOSTRAM AS DIFERENÇAS DE PREFERÊNCIAS DE DOCES ENTRE AS CRIANÇAS DO 1º ANO E DOS PAIS DELAS.

GRÁFICO 1: DOCES PREFERIDOS CRIANÇAS

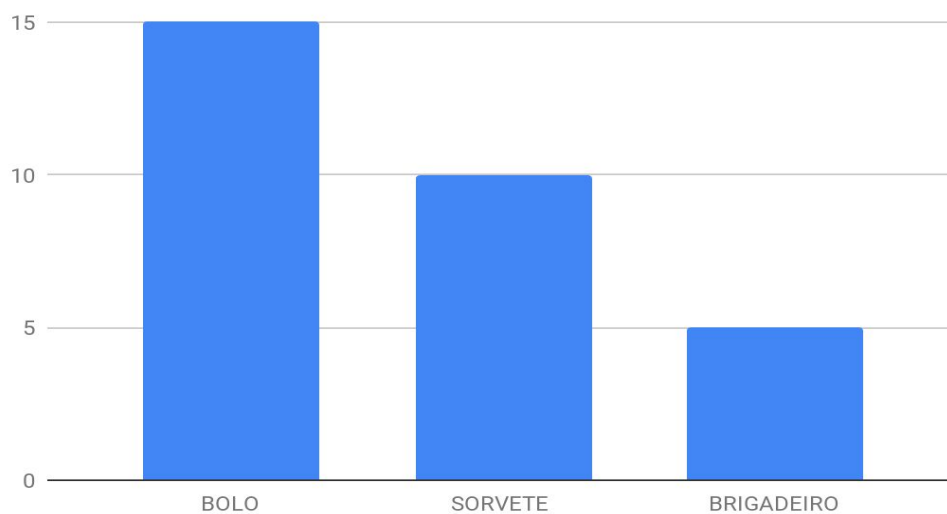
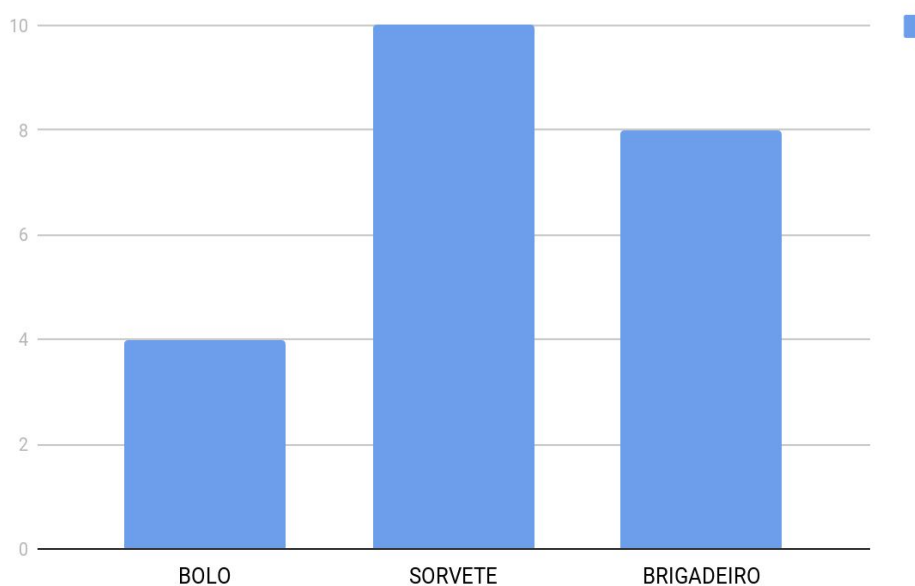


GRÁFICO 2: DOCES PREFERIDOS DOS PAIS



A. QUAL O DOCE PREFERIDO DOS PAIS? E DAS CRIANÇAS?

B. QUAL DOCE AS CRIANÇAS GOSTAM MENOS?

C. QUANTAS CRIANÇAS A MAIS QUE SEUS PAIS ESCOLHERAM BOLO?

2) OBSERVE OS DOIS GRÁFICOS ABAIXO:

GRÁFICO: BRINQUEDOS PREFERIDOS DOS MENINOS

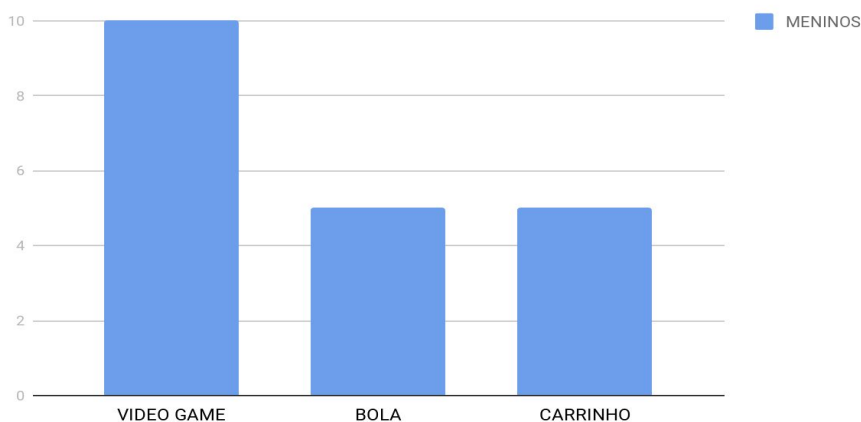
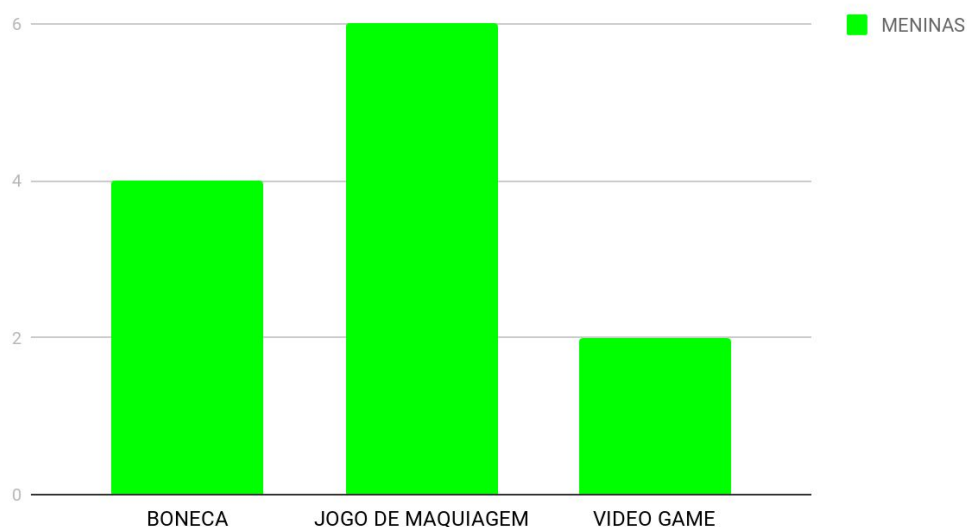


GRÁFICO: BRINQUEDOS PREFERIDOS DAS MENINAS

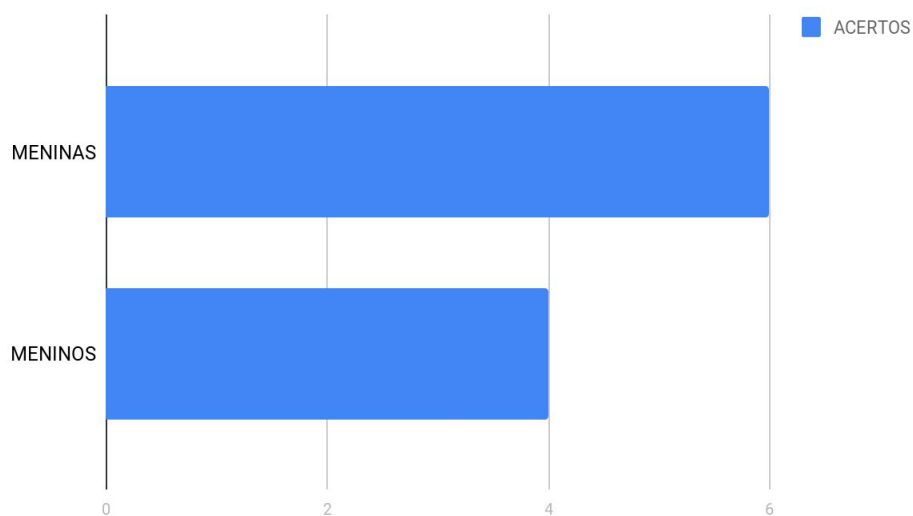


- A. O QUE NOS MOSTRA O PRIMEIRO GRÁFICO? E O SEGUNDO?
- B. QUAL BRINQUEDO FOI MAIS VOTADO NO PRIMEIRO GRÁFICO? E NO SEGUNDO?
- C. QUAL O TOTAL DE CRIANÇAS QUE GOSTAM DE VÍDEO GAME?


3) [DESAFIO]

- 1) EM UMA COMPETIÇÃO NA ESCOLA FOI REALIZADA UMA PESQUISA PARA VER SE MENINOS OU MENINAS ACERTAVAM MAIS BOLAS NA CESTA DE BASQUETE. OLHEM OS RESULTADOS:

ACERTOS DOS ALUNOS DO 1º ANO A



ACERTOS DOS ALUNOS DO 1º ANO B

| JOGADOR | NÚMERO DE ACERTOS |
|---|-------------------|
|  | 5 |
|  | 8 |

- A. ACERTARAM MAIS CESTAS AS MENINAS DO 1º ANO A OU DO 1º ANO B?
- B. QUAL O TOTAL DE ACERTOS DE MENINOS NAS DUAS TURMAS?