

## Resolução da atividade complementar - MAT1\_19PES05

1) OS GRÁFICOS MOSTRAM AS DIFERENÇAS DE PREFERÊNCIAS DE DOCES ENTRE AS CRIANÇAS DO 1º ANO E DOS PAIS DELAS.

GRÁFICO 1: DOCES PREFERIDOS CRIANÇAS

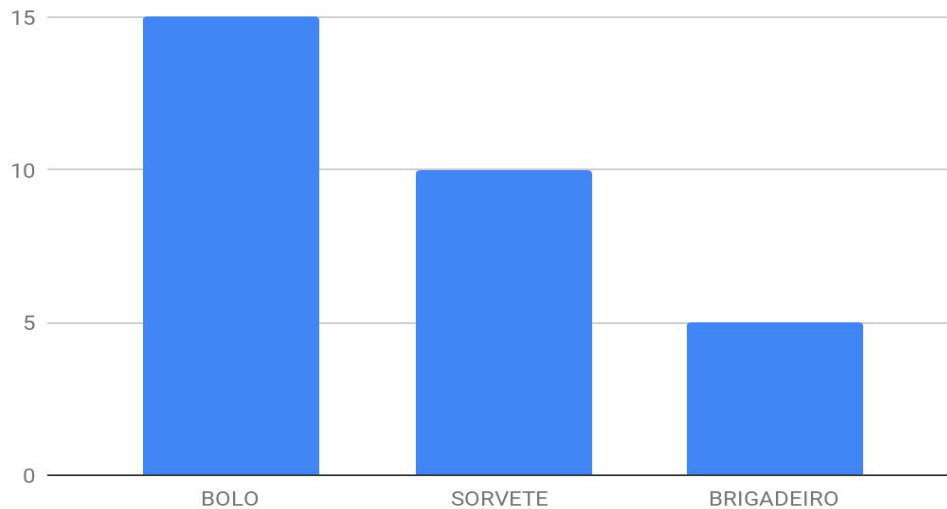
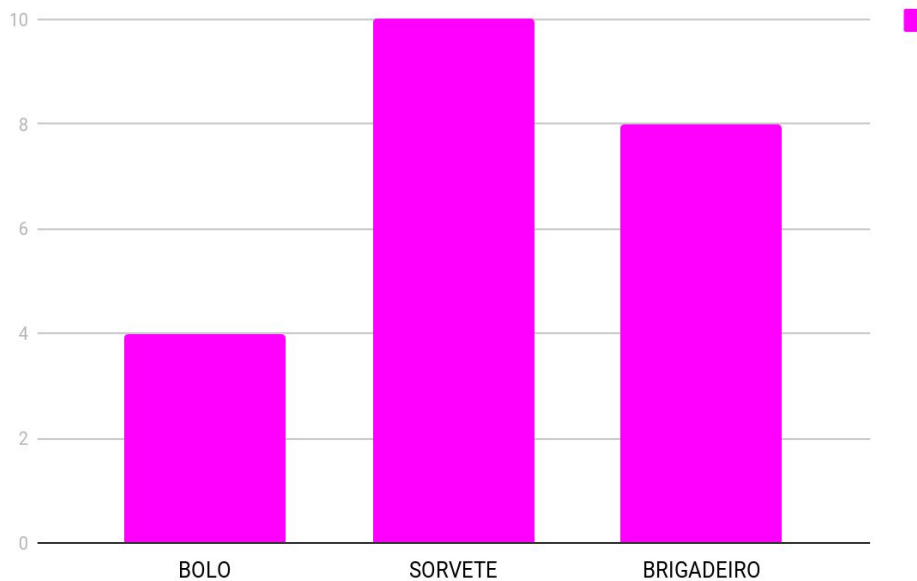


GRÁFICO 2: DOCES PREFERIDOS DOS PAIS



A. QUAL O DOCE PREFERIDO DOS PAIS? E DAS CRIANÇAS?  
*As crianças preferem bolo, enquanto os pais preferem sorvetes.*

B. QUAL DOCE AS CRIANÇAS GOSTAM MENOS?  
*O doce que as crianças menos gostam é o brigadeiro.*

C. QUANTAS CRIANÇAS A MAIS QUE SEUS PAIS ESCOLHERAM BOLO?  
*11 crianças*

2) OBSERVE OS DOIS GRÁFICOS ABAIXO:

GRÁFICO: BRINQUEDOS PREFERIDOS DOS MENINOS

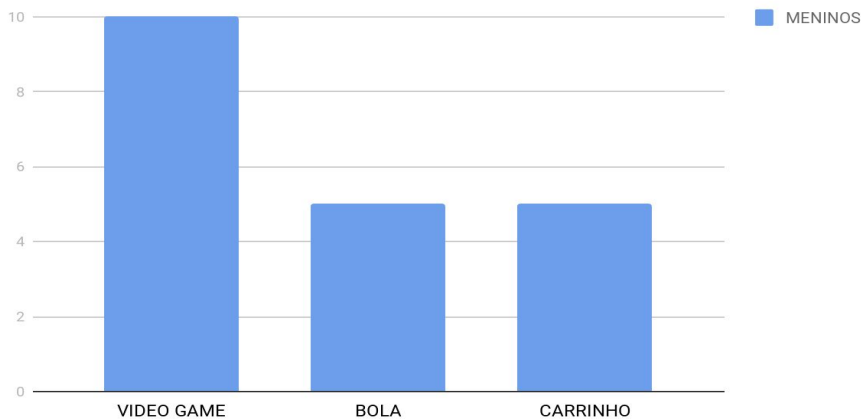
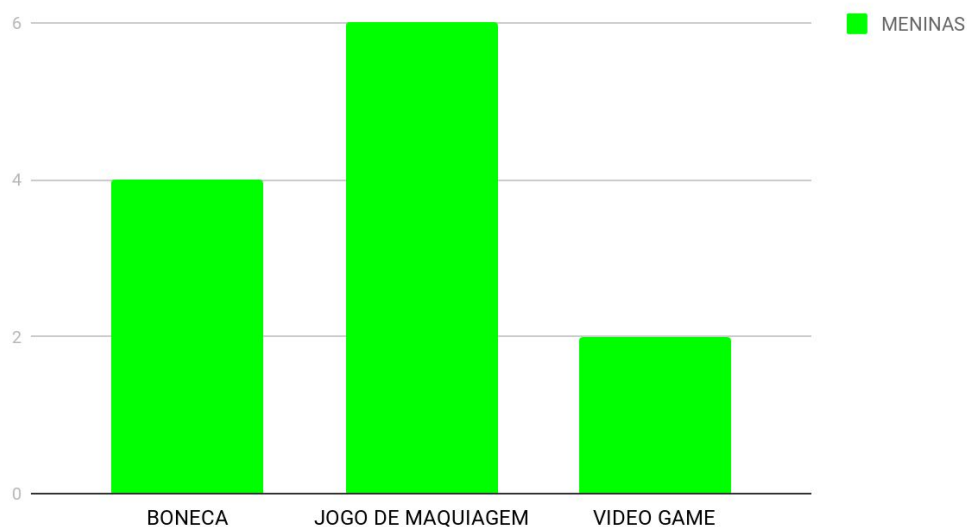


GRÁFICO: BRINQUEDOS PREFERIDOS DAS MENINAS



A. O QUE NOS MOSTRA O PRIMEIRO GRÁFICO? E O SEGUNDO?  
*No primeiro os brinquedos preferidos dos meninos e no segundo o brinquedo preferido das meninas.*

B. QUAL BRINQUEDO FOI MAIS VOTADO NO PRIMEIRO GRÁFICO? E NO SEGUNDO?  
*No primeiro gráfico foi video game e no segundo jogo de maquiagem*

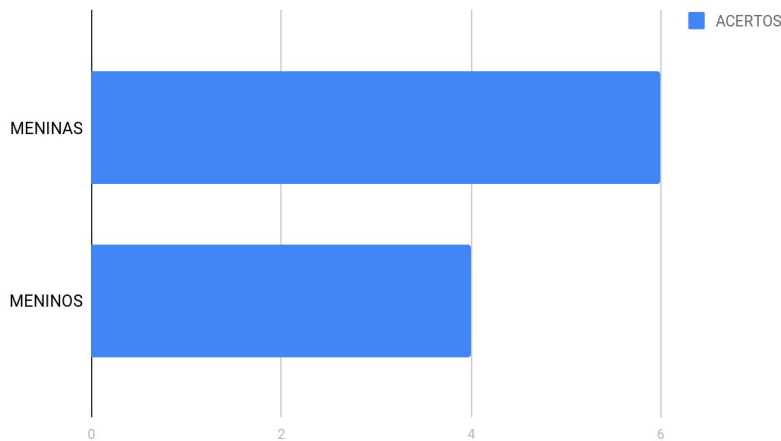
C. QUAL O TOTAL DE CRIANÇAS QUE GOSTAM DE VÍDEO GAME?

12 crianças gostam de video game

3) [DESAFIO]

EM UMA COMPETIÇÃO NA ESCOLA FOI REALIZADA UMA PESQUISA PARA VER SE MENINOS OU MENINAS ACERTAVAM MAIS BOLAS NA CESTA DE BASQUETE. OLHEM OS RESULTADOS:

ACERTOS DOS ALUNOS DO 1º ANO A



ACERTOS DOS ALUNOS DO 1º ANO B

JOGADOR	NÚMERO DE ACERTOS
	5
	8

A. ACERTARAM MAIS CESTAS AS MENINAS DO 1º ANO A OU DO 1º ANO B?  
*As meninas do 1º ano A*

B. QUAL O TOTAL DE ACERTOS DE MENINOS NAS DUAS TURMAS?  
*No 1º ano A 4 meninas acertaram a cesta, e no 1º ano B 8 meninas acertaram a cesta.*