


1) OBSERVE O QUADRO DE PRODUTOS DISPONÍVEIS E O QUADRO DE VALORES. ORGANIZE OS QUADROS ABAIXO, DE FORMA QUE A SOMA CORRESPONDA AO VALOR QUE ESTÁ NOS RESPECTIVOS QUADROS. NÃO É NECESSÁRIO UTILIZAR TODOS OS PRODUTOS E NEM TODOS OS VALORES

R\$ 19,00

R\$ 8,00





PRODUTOS DISPONÍVEIS



QUADRO DE VALORES

| | | | |
|----------|----------|----------|-----------|
| R\$ 2,50 | R\$ 3,00 | R\$ 5,00 | R\$ 4,20 |
| R\$ 6,00 | R\$ 1,30 | R\$ 3,80 | R\$ 10,00 |

2) OBSERVE O CONJUNTO. ASSINALE O RAMALHETE QUE CORRESPONDE AO VALOR DA SOMA DOS PRODUTOS DO RESPECTIVO QUADRO. UTILIZE O ENVELOPE DE DINHEIRINHO PARA REPRESENTAR E CONTAR OS VALORES!

| | | | |
|---|---|---|---|
|  |  |  |  |
| R\$ 3,10 | R\$ 12,00 | R\$ 8,00 | R\$ 4,90 |

| | |
|--|-----------|
|  | R\$ 27,00 |
|  | R\$ 28,00 |
|  | R\$ 26,00 |

[DESAFIO]

ANA FOI AO MERCADO E REALIZOU AS COMPRAS DO MÊS. O VALOR A SER PAGO É DE **R\$ 248,15** (DUZENTOS E QUARENTA E OITO REAIS E QUINZE CENTAVOS). UTILIZANDO AS CÉDULAS E MOEDAS DISPONÍVEIS, REPRESENTE O VALOR DAS COMPRAS DE ANA!

CÉDULAS E MOEDAS DISPONÍVEIS

