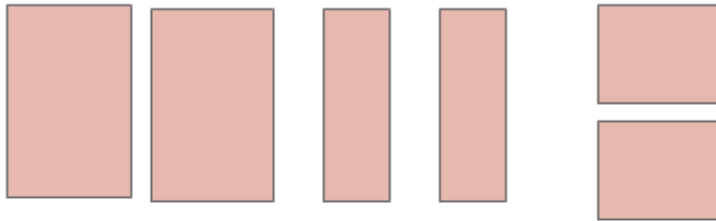


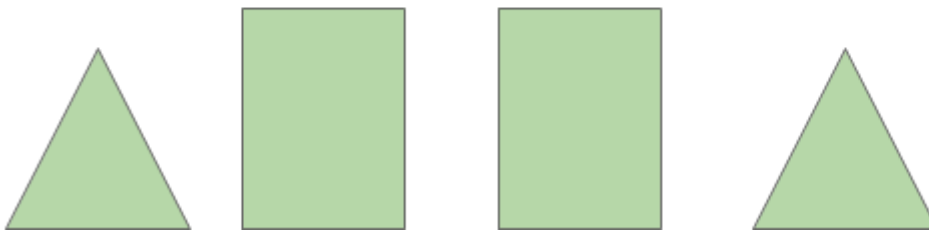
OBSERVEM O QUADRO ABAIXO E ANALISE CADA CONJUNTO DE PEÇAS.

- APONTE QUAL DOS CONJUNTOS DE FIGURAS SERIA MAIS ADEQUADO PARA MONTAR UM PRISMA.
- QUAL O TIPO DE PRISMA OBTIDO?

1



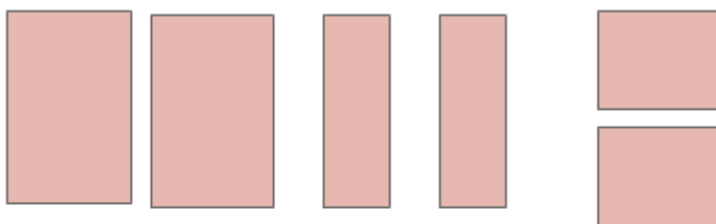
2



OBSERVEM O QUADRO ABAIXO E ANALISE CADA CONJUNTO DE PEÇAS.

- APONTE QUAL DOS CONJUNTOS DE FIGURAS SERIA MAIS ADEQUADO PARA MONTAR UM PRISMA.
- QUAL O TIPO DE PRISMA OBTIDO?

1



2

