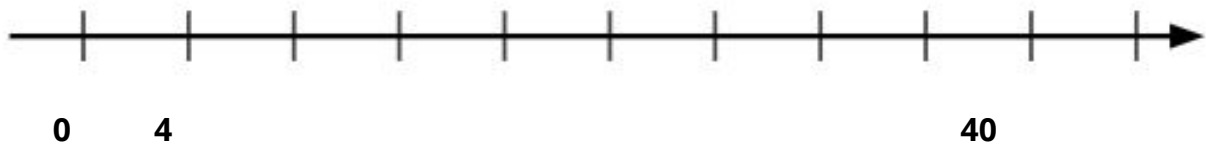
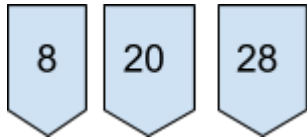
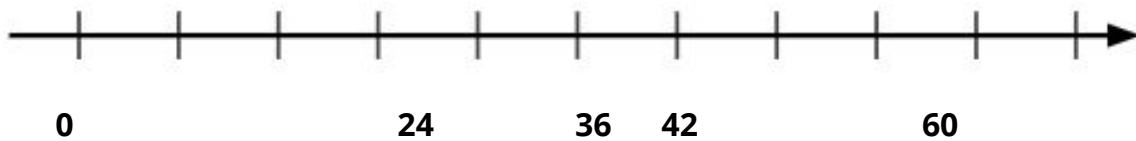


ATIVIDADE 1 - JULIANA ESTAVA MONTANDO A RETA NUMERADA DA TABUADA DO QUATRO, QUANDO UM VENTO DISPERSOU SUAS ETIQUETAS, AJUDE-A A DISPOR AS ETIQUETAS QUE ELA CONSEGUIU RECUPERAR NA POSIÇÃO CORRETA DA RETA NUMERADA:



ATIVIDADE 2 - OBSERVE A RETA NUMERADA ABAIXO E MARQUE A OPÇÃO QUE REPRESENTA OS NÚMEROS QUE ESTÃO FALTANDO:



- A) 1, 6, 12, 30, 48, 54
- B) 6, 12, 18, 30, 48, 54
- C) 6, 12, 18, 24, 48, 54

ATIVIDADE 3 - DESAFIO - PARTINDO DO ZERO, SALTE OITO CASAS, VOLTE 3, MULTIPLIQUE POR 4, SUBTRAIA 6. QUAIS SÃO OS FATORES QUE TEM ESTE NUMERAL COMO PRODUTO?

