


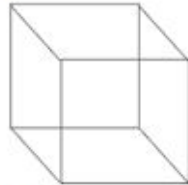
Resolução do raio x - MAT2_14GEO01

1- VEJA OS DESENHOS ABAIXO:

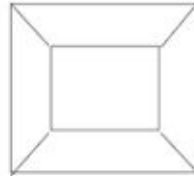
(A)



(B)



(C)




~~(D)~~



QUAL DELES REPRESENTA UMA CAIXA VISTA DE CIMA? MARQUE COM **X** A RESPOSTA CERTA.

2- COMO É A REPRESENTAÇÃO DO LIXEIRO DA SALA DE AULA VISTO DE CIMA? FAÇA O DESENHO:



3- OLHANDO PARA SUA CARTEIRA, CONSEGUE DESENHÁ-LA NESTE ESPAÇO? QUAL FORMA GEOMÉTRICA ELA POSSUI? **RETÂNGULO**

