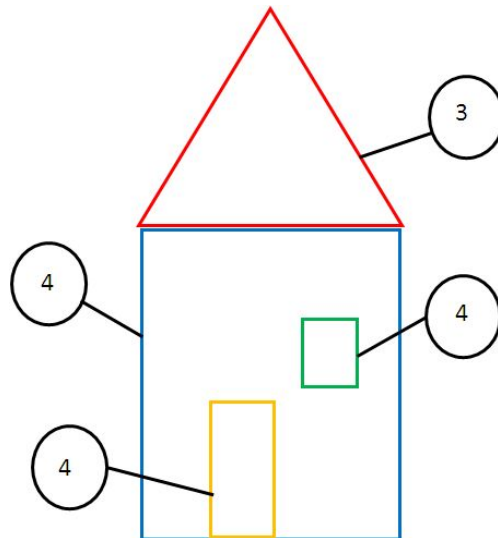


## Resolução das Atividades Complementares - MAT1\_09GEO05

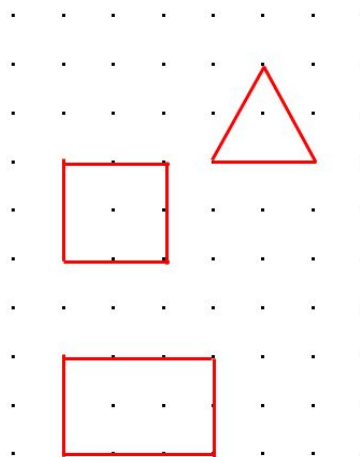
1. Vamos contar o número de lados das figuras que formam a casa?

Solução:






2. Vamos desenhar um triângulo, um retângulo e um quadrado utilizando os pontinhos. Não se esqueça que cada pontinho representa a união dos lados, ou seja, o vértice. Em seguida escreva o número de vértices utilizados.

Solução:



**3. Desafio: Quero ver se você consegue descobrir a figura geométrica.  
Preste atenção nas dicas e desenhe a figura.**

**Possíveis soluções:**

<p>TENHO 4 LADOS E 4 VÉRTICES, QUEM SOU?</p> 	<p>TENHO 3 LADOS E 3 VÉRTICES, QUEM SOU?</p> 	<p>TENHO 4 LADOS E 4 VÉRTICES, MAS NÃO SOU UM QUADRADO, QUEM SOU?</p> 
--	--	---

\* O aluno pode desenhar na primeira dica um retângulo, essa solução também está correta.